

Олимпиада школьников «Надежда энергетики»

МЭИ, г. Москва

Место проведения

BS 88-89

шифр

← Не заполнять
Заполняется
ответственным
работником

Вариант №

73101

ФАМИЛИЯ

АРШИНОВ

ИМЯ

ВЛАДИСЛАВ

ОТЧЕСТВО

ПАВЛОВИЧ

Дата

рождения

20.10.2002

Класс:

10

Предмет

ИНФОРМАТИКА

Этап:

ЗАКЛЮЧИТЕЛЬНЫЙ

Работа выполнена на

4

листах

Дата выполнения работы:

16.02.2020

(число, месяц, год)

Подпись участника олимпиады:



Впишите свою фамилию имя и отчество печатными буквами, дату рождения, класс, название предмета, этапа Олимпиады, общее количество листов, на которых выполнена работа и дату выполнения работы.



ВНИМАНИЕ! Проверяется только то, что записано с этой стороны листа в рамке справа

№1

Только два варианта: на ~~три~~ крайнем правом и на ~~лишнем~~ правом. Рассмотрим на примерах:

$| \text{---} | \quad | \text{=} | \quad | \text{=} | \quad | \text{---}$

Обозначим правую крайнюю за \underline{I} , а правую лишнюю - \underline{II} .

$\underline{I} + \underline{II} - \quad \underline{I} + \underline{II} + \quad \underline{I} - \underline{II} + \quad \underline{I} - \underline{II} -$

Примерами: $\underline{I} +$ значит, что гербы \underline{I} прогербоны, $\underline{I} -$ - нет.

Мы видим, что комбинации равны, значит мы можем идентифицировать их как таковыми гербами.

Меньше вариантов не получится, т.к. у гербов два состояния: прогербоны или нет. Невозможно форму состояниями реализовать и представлять четыре разных комбинации. ⊕

№2.

Лучше всего буквы войти в формулу системы счисления и представляется ~~как~~ как гербы как цифры в шестидесятичной системе. Тогда как у гербов будет 7 цифр массами 1, 2, 4, 8, 16, 32 и 64.

⊕
⊕

~~√3 не?~~



ВНИМАНИЕ! Проверяется только то, что записано с этой стороны листа в рамке справа

table = <ввод таблицы в виде формульного списка>
 line = [] # в этом списке мы запишем числа в том порядке, в каком они должны идти по условию

и да, индексы в списках идут от нуля

for i от 0 до N-1 # N - размер таблицы

line += table[i][::-1] # здесь мы берем строку таблицы и с помощью среза реверсируем строку с отрицательными индексами



3

for i от 0 до N²-1 # теперь сам поиск

if 0 ≤ line[i] ≤ 5: print(i//N, i%N) # выводим индекс строки и столбца именно в таком порядке.

н.ч.

1. Общая формула ~~i-го слагаемого:~~

Формула N-го слагаемого:

$$(-1)^{N-1} \cdot \frac{x^{2N-1}}{N}$$

2. Формула из условия рекурсивная, поэтому если нам надо будет просто определить N-е слагаемое (и само значение), она очевидно проигрывает формуле из п. 1.

Выразим из этой формулы N-е слагаемое:

$$S_N = -x^2 S_{N-1} \cdot \frac{N-1}{N}$$

Здесь пять арифметических операций:

$$-x^2 \cdot x^2 \cdot S_{N-1} \cdot (N-1) \cdot N$$

т.е. для расчета N-го слагаемого потребуется $5(N-1)$ операций. Теперь посмотрим на формулу из п. 1. x^n - всегда $(n-1)$ операций. Тогда кол-во операций в формуле п. 1:



ВНИМАНИЕ! Проверяется только то, что записано с этой стороны листа в рамке справа

$$(N-2)+1+(2N-2)+1=3N-2$$

Из этого, сравним: (вернее, укажем)

$$3N-2 \leq 5(N-1)$$

$$2N \geq 3$$

$$N \geq 1,5$$

Но если мы начинаем со второго слагаемого мы будем совершать меньше ариф. операций, используя формулу из п. 4.

Но это все в той ситуации, если, повторюсь, как надо определить N -е слагаемое и числа Салле. Рассмотрим ситуацию, когда мы уже считали самую первую, итерацию складывая слагаемые (таблицы).

Мы считаем сумму N слагаемых. В случае с формулой из п. 4 число итераций не меняется: все те же $5(N-1)$ операций на одно слагаемое. Но в случае с формулой из п. 1 нам придется на каждой i -й итерации выполнять $3i-2$ операций.

Когда уже получаются арифметическая прогрессия с разницей

$$3 \cdot 2 - 2 = 4, \text{ и ее сумма будет равна}$$

$$S(N) = \frac{(4 + 3N - 2)(N - 1)}{2} = \frac{(3N + 2)(N + 1)}{2}$$

Здесь N уже всегда в квадрате, а значит эта сумма будет строго больше, чем $5(N-1)$.

Напомним, только что я рассмотрел ситуацию, когда мы считали сумму N слагаемых.

⊕



ВНИМАНИЕ! Проверяется только то, что записано с этой стороны листа в рамке справа

нб.
По сути, все остатки от деления на число m лежат в промежутке $[0, m)$. Но этот алгоритм сводится к проверке Δ наличия у квадратного уравнения корней вообще, а затем к проверке попадания в $Z_m = [0, m)$.

$a, b, c, m = \langle \text{ввод} \rangle$

if $b^2 \neq 4ac$ and $(\frac{-b + \sqrt{b^2 - 4ac}}{2a} \in [0, m) \text{ or } \frac{-b - \sqrt{b^2 - 4ac}}{2a} \in [0, m))$: print ("Решение, решение есть!")

И поскольку в условии сказано про натуральное число, количество весьма ограничено. Самые простые решения - просто перебрать все возможные варианты:

$a, b, c, m = \langle \text{ввод} \rangle$

for x от 0 до $m-1$ do

if $(ax^2 \% m + bx \% m + c) \% m == 0$: print ("Решение, решение найдено!")

break do

do

else print ("Увы, решение не найдено")

⊕

$x \% m$ - остаток от деления x на m .

Олимпиада школьников «Надежда энергетики»

СФМЭИ

Место проведения

GE 18-39

шифр

← Не заполнять
Заполняется
ответственным
работником

Вариант № 43991

ФАМИЛИЯ Балюконис

ИМЯ Тимофей

ОТЧЕСТВО Олегович

Дата рождения 27.02.2005

Класс: 9

Предмет ИНФОРМАТИКА

Этап: Заключительный

Работа выполнена на 4 листах

Дата выполнения работы: 16 февраля 2020
(число, месяц, год)

Подпись участника олимпиады: 

Впишите свою фамилию имя и отчество печатными буквами, дату рождения, класс, название предмета, этапа Олимпиады, общее количество листов, на которых выполнена работа и дату выполнения работы.



ВНИМАНИЕ! Проверьте только то, что записано с этой стороны листа в рамке справа

N1

Рассмотрим полный прямоугольник и все варианты:

1) сегменты 1, 2, 3 вертикально-горизонтально
 2) сегменты 4, 5, 6 вертикально-горизонтально
 3) сегменты 1, 2, 3 вертикально-горизонтально
 4) сегменты 4, 5, 6 вертикально-горизонтально

рассмотрим случаи, которые остались:

① ② ③

6 5 | 4 6 5 | 4 6 5 | 4

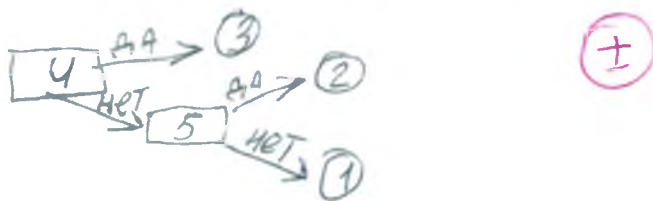
Кстати заметим, что 6 сегмент не входит на результат.

Следовательно, нам требуется 2 датчика.

Алгоритм работы прост: (0 - есть канал, 1 - есть)

если датчик 4 показывает 0, значит нетка (3)

иначе если датчик 5 показывает 1, значит нетка (2), иначе (1)



N2

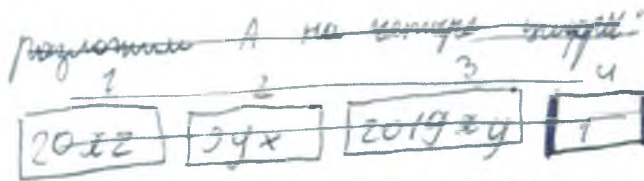
Нам достаточно знать всели 1, 3, 9, 27 или всех степеней 3 до 40. (+)

Пойдем от A. Если обозначим все тройки чисел (последовательность из каждого числа можно сделать число на 1 меньше или больше). Разница между ними будет 1. Повторяем этот процесс, пока не останется ни одного числа. Тем самым получаем наименьший размер шифра.



ВНИМАНИЕ! Проверяется только то, что записано с этой стороны листа в рамке справа

N3



поскольку $f(1) = 1$, значит число не четное. Следовательно, делить $D = yx$ можно на четное. Значит, x - не четное число. Также проверим y : $A_2 = A_5$ содержит y число A без неизвестных или знаков, а после переберём возможные комбинации, подходящие под условия, такие как:

- 1) x - нечетное, не 5, т.к. не заканчивается на 0 или 5, значит $x = \{1, 3, 7, 9\}$
- 2) y - не 0, т.к. yx - двузначное

найдем ~~разложение~~ 64 битовое типа $A = 20\ 009\ 002\ 019\ 001$;

Перебираем $x_1 = \{1, 3, 7, 9\}$

Перебираем $y_1 = \{0 \dots 9\}$

Перебираем $z_1 = \{0 \dots 9\}$

ξ



найдем 64 битового типа $A_1 = A + (x_1 \times 10^2) + (x_1 \times 10^4) + (x_1 \times 10^{14})$;

$A_1 = A_1 + (y_1 \times 10) + (y_1 \times 10^8) + (z_1 \times 10^{19})$;

если $A_1 / (x_1 + y_1 \cdot 10)$ в остатке даст 0 - выводим наши числа (если подходит)

Асимптотика: $4 \cdot 9 \cdot 10$

N4

Олимпиада школьников «Надежда энергетики»

МЭИ г. Москва

Место проведения

BS 88-49

шифр

← Не заполнять
Заполняется
ответственным
работником

Вариант № 2 3101

ФАМИЛИЯ Болкова

ИМЯ Ия

ОТЧЕСТВО Владимировна

Дата рождения 22.04.2004

Класс: 10

Предмет Информатика

Этап: Заключительный

Работа выполнена на 7 листах

Дата выполнения работы: 16.02.2020
(число, месяц, год)

Подпись участника олимпиады: 

Впишите свою фамилию имя и отчество печатными буквами, дату рождения, класс, название предмета, этапа Олимпиады, общее количество листов, на которых выполнена работа и дату выполнения работы.



ВНИМАНИЕ! Проверяется только то, что записано с этой стороны листа в рамке справа

N1

Ответ: 2 датчика



Поставим датчики на 2 места, показанные на рисунке. (промаркируем их 1 и 2)

Если задание (показать, что сеть проложена) только первый датчик, то это этот знак.



Если только 2об, то этот.



Если оба, то этот



Если ни одного, то этот.



В результате мы видим, что с помощью двух датчиков мы можем задать каждый из знаков.

Если мы добудем только 1 датчик, то он сможет задать только два варианта (закрыта или нет), а у нас 4 знака, все из них одним датчиком задать невозможно.





ВНИМАНИЕ! Проверяется только то, что записано с этой стороны листа в рамке справа

```

N3
N = int(input())
d = int(input()) float(input())
s = float(input())

```

~~Задача~~
 Вводятся N, d и s. Если N не целое или d или s не числа (целые или дробные), программа выдает ошибку.

Алгоритм

```

not_find = True // эта переменная, которая
// будет принимать значение True
// если True если будет не найден нулевой
// или элемент и False если уже найден
i = 0 // i обозначает текущий номер
// строки (начиная с нуля)

```

```

while not_find and i < N: // выйдем,
// пока не найдем нулевой элемент
// или i станет равным N
// (тогда конец строки выйдем
// за границы массива)
  if i % 2 == 0:
    // если номер строки четный
    // (с нулевыми строка)
    j = 0 // j обозначает
    // номер столбца

```

```

while not_find and j < N:
  // пока не найдем элемент
  // или не выйдем за
  // границы массива
  if a[i][j] != "empty":
    // так мы обозначили
    // нулевой элемент
    // ** продолжение на стр. 3

```

```

(*) a = []
for i in range(N): // выведем N раз
  ai = input().split()
  // вводим N строк, в каждой N
  // элементов
  a.append(ai)
  // Если в этой строке нет числа,
  // выведем вместо "empty"

```

Считаем, что проблема с нулевыми строками



ВНИМАНИЕ! Проверяется только то, что записано с этой стороны листа в рамке справа

~~if~~ $\text{int}(a[i:j]) \geq d$ and $\text{int}(a[i:j]) \leq s$:

// new max ~~max~~
 // update answer cd; s

ans_i = i + 1

ans_j = j + 1

// ans_i хранит номер
 строки строки ~~строки~~,
 которую мы взяли
 номерами от 1)

ans_j хранит номер
 строки строки,
 номерами от 1

not_find = false

// меняем на миним
 умнее элемент

j += 1 // переходим к след. элементу
 строки

if i % 2 == 1 // номер строки нечет,
 номер, с 0

j = N - 1 // номер строки

while not_find and j >= 0:

// пока не нашли ответ

мы не даем go

какое первое значение
 строки

if a[i:j] != "empty" and

$\text{int}(a[i:j]) \geq d$ and $\text{int}(a[i:j]) \leq s$.

~~if~~

ans_i = i + 1

ans_j = j + 1

// записываем значение ответа
 in book

not_find = false

j += 1 // к след. строке

i += 1 // переходим к след. строке



ВНИМАНИЕ! Проверяется только то, что записано с этой стороны листа в рамке справа

```
if not not_empty: //ке найден элемент
    print("Такого элемента нет")
else:
    print(ans_i, ans_j) //возвращаем номер
    середины и иногда перекидываем
    границы с 1.
NS
```

```
a = int(input())
b = int(input())
c = int(input())
m = int(input())
//возвращаем a, b, c, m. Если это не целые
//числа, программа выдает ошибку
```

```
if m <= 0:
    print("Невозможная форма для
    m должно быть натуральным")
```

~~Если для каждого значения m
 будет найден элемент, то m
 будет больше нуля в смысле
 (можно выразить все значения
 суммы), поэтому не нужно~~

```
D = (b**2 - 4*a*c) // дискриминант
```

```
if D < 0:
    print("Корней нет") // если D < 0, корней
    нет sqrt(D) // корень из D
```

```
else:
    x1 = ((-1) * b + sqrt(D)) / (2 * a)
```

```
x2 = ((-1) * b - sqrt(D)) / (2 * a)
```

```
if (x1 >= 0 and x1 < m) or (x2 >= 0 and x2 < m):
```

```
    print("Корень найден")
```

//возвращаем, иногда перекидываем элемент в элемент

остатки при делении как. Искать на m, т.е. в элемент
 ищет от 0 до m-1 включительно

7



ВНИМАНИЕ! Проверяется только то, что записано с этой стороны листа в рамке справа

else:
print ("Кег некажетинский")
//акции ког популится некажетинским
N 2

Посмотрим, как можно получить 40 кг
Возьмем кег 27 кг, 9 кг, 1 кг и 3 кг

из 1 кг и 3 кг можно получить

1 кг 3 кг

3-1 = 2 кг (можно, если

кладем на противоположные

3+1 = 4 кг (можно все)

из 1 кг, 3 кг и 9 кг можно

получить

~~все~~ ~~1 кг~~ - все веса в промежутке
1 кг ... 4 кг.

9-4, ..., 9 кг
" 5
(Означает, что 9 все
можно от 1 до 4)
н.е. кладем на противоположные

~~9 кг~~
9, ..., 9+4

то есть все от 1 до 13 кг
(прибавим все веса от 1 до 4)
Если возьмем еще 27 кг, можно

все от 1 до 13 кг

все от 13 до 27-13 до 27 кг

" 14 кг (о-значает все
веса от 1 до 13)

все от 27 кг до 27+13

" 40 кг, т.е. все
веса





ВНИМАНИЕ! Проверяется только то, что записано с этой стороны листа в рамке справа

В стелерь $N-1$ это $(N-1)$ умножений, т.е.
всего $2N-1 + 2 + N-1$ арифм. операций

$$= 2N + N - 1 - 1 + 2 = 3N \text{ арифм. операций}$$

Менее последовательные на формулу из условия.

$$\frac{S_{N+1}}{S_N} = -x^2 - \frac{N}{N+1}$$

$$S_{N+1} = \left(-x^2 - \frac{N}{N+1}\right) S_N$$

$$S_{N+1} = (-1) \cdot x \cdot x \cdot \frac{N}{N+1} \cdot S_N$$

Всего **6** арифм. операций

Продолжение задачи N2

Менее с ~~каждой~~ ^{каждой} ~~шере~~ ^{шере} 1 (соединяет 5)
 $3k_2$ и $27k_1$. или ~~соединяет~~ ^{соединяет} 2

Все веса от $1k_1$ до $40k_2$

Во ~~возможна~~ ^{возможна} ~~есть~~ ^{есть} ~~шере~~ ^{шере} $50k_1$

с помощью нее и всех предыдущих,
пробавляя все веса от $1k_1$ до $40k_1$,
мы можем получить все веса от

$50k_1$ до $50k_2$
а выкинув все веса от $1k_1$ до $40k_1$,
(кагда на группу
замену весов),
от $50k_2 - 40k_1 = 10k_1$

до $50k_2$

до $10k_1$ тоже можно получить

Ответ: 5 шере ~~от~~ $1k_2, 3k_2, 5k_2, 27k_1,$
 $50k_1.$

Олимпиада школьников «Надежда энергетики»

ГОРОД УФА

Место проведения

НЕ 23-21

шифр

← Не заполнять
Заполняется
ответственным
работником

Вариант № 73101

ФАМИЛИЯ ВОСКОВЦУК

ИМЯ АМИТРИЙ

ОТЧЕСТВО МАКСИМОВИЧ

Дата рождения 19.04.2003


Класс: 10

Предмет ИНФОРМАТИКА

Этап: ЗАКЛЮЧИТЕЛЬНЫЙ

Работа выполнена на 3 листах

Дата выполнения работы: 16.02.2020
(число, месяц, год)

Подпись участника олимпиады: 

Впишите свою фамилию имя и отчество печатными буквами, дату рождения, класс, название предмета, этапа Олимпиады, общее количество листов, на которых выполнена работа и дату выполнения работы.

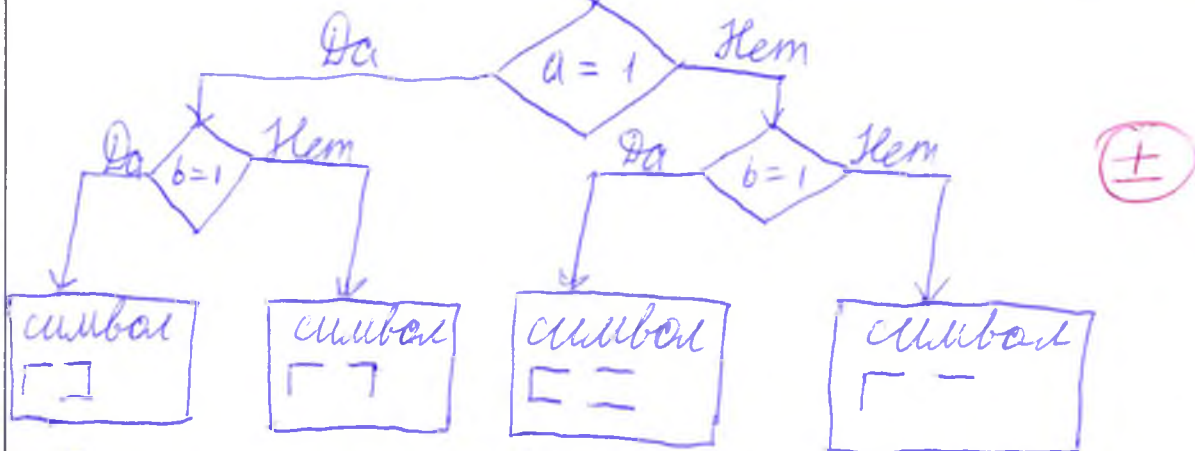


ВНИМАНИЕ! Проверяется только то, что записано с этой стороны листа в рамке справа

1. Потребуется 2 датчика, Запрещено = 1
пусто = 0

1 - * ~ 1
- * ~ 2

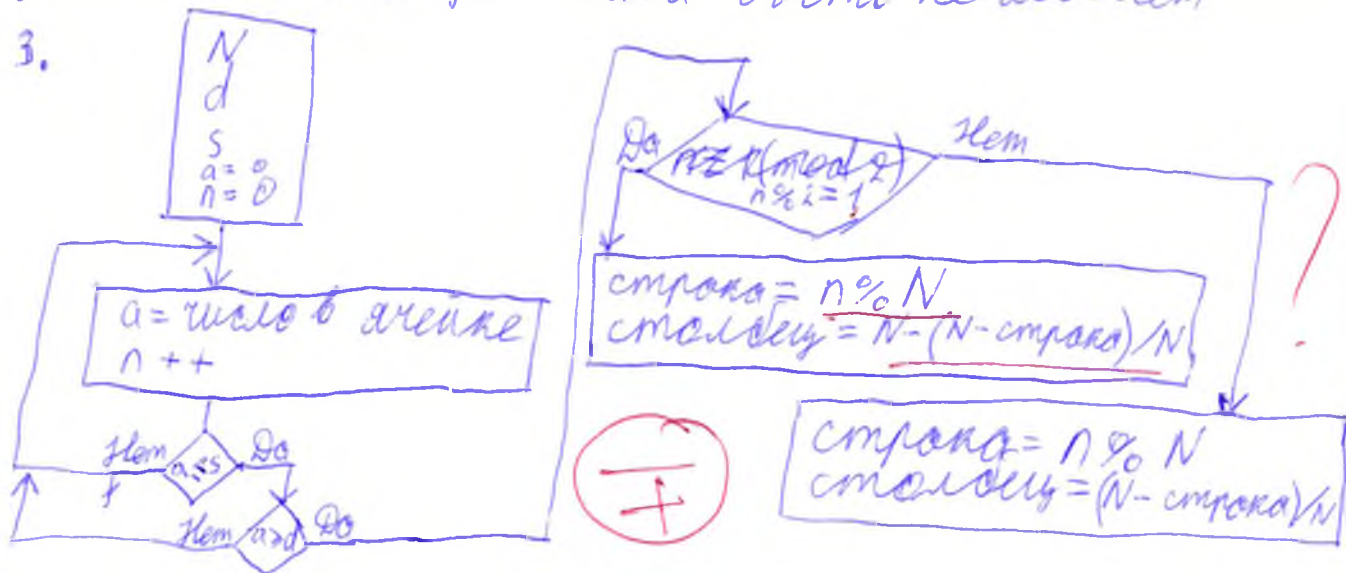
a = показания с датчика ~ 1
b = показания с датчика ~ 2



Дополнительство, почему нельзя меньше т.к. значения от датчиков получаются логическими, то их вывод можно записать в виде двоичного кода, где датчик ~ 1 - 1-ый разряд, а датчик ~ 2 - 2-ой разряд и т.д.

Чтобы зашифровать 4 исхода потребуется 4 числа, что является максимальным числом в 2-х разрядной системе. Значит 1-ого датчика быть не может

3.





ВНИМАНИЕ! Проверяется только то, что записано с этой стороны листа в рамке справа

4. 1) ~~NSX~~ $S_N = (-1)^{N-1} \cdot \frac{X^{2 \cdot N - 1}}{N}$

2) NSX

операция	кол-во операций
$N-1$	1
$(-1)^{N-1}$	$N-2$
$2 \cdot N$	1
$2 \cdot N+1$	1
$X^{2 \cdot N+1}$	$2N$
$X^{2 \cdot N+1}$	1
N	1
$(-1)^{N-1} \cdot \frac{X^{2N+1}}{N}$	1
	$3N+3$

$$(-1)^{N-1} \cdot \frac{X^{2N+1}}{N}$$

операция	кол-во операций
X^2	1
$-X^2$	1
$N+1$	1
N	1
$\frac{N}{N+1}$	1
$-X^2 \cdot \frac{N}{N+1}$	1
	5

$$-X^2 \cdot \frac{N}{N+1}$$

чтобы считать этим способом нужно по очереди считать каждый элемент. Чтобы добраться от известного $N=4$ до N , нужно использовать формулу $N-4$ раз, т.е. $5(N-4)$ операций

$$5N - 20 \stackrel{?}{=} 3N + 3$$

$$2N = 23$$

При $N > 12$ второй способ выгоднее, иначе выгоднее первый



2. Показано, что в шире с весами $\{81; 27; 9; 3; 1\}$ две гири можно взвесить 9 значений, находящихся друг от друга на расстоянии n . Вес двух гирь должен быть n и $3n$.

В диапазоне $(1; 90)$ 87 элементов.

$$\begin{array}{r|l} 87 & 9 \\ \hline 81 & 9 \\ \hline 6 & \end{array}$$

т.е. диапазон можно разбить

на группы, по где в 9 будет 9 элементов и в одной только 6 . Гирями $\{81; 27; 9\}$ можно выставить любой вес, такой, что $\div 3$ и входит в $[0; 90]$. А гирями $\{1; 3\}$ можно выставить любой вес, у которого разность по модулю с весом, выставленным 3-мя гирями не больше 4. (т.е. если $x \div 3 \& x \in [0; 90]$, то можно выставить $[x-4; x+4]$)

б. Язык: C++

```
#include <iostream>
```

```
int a, b, c, m, i, j;
```

```
int main() {
```

```
cin >> a >> b >> c >> m;
```

```
if (a == 0) { cout << "Ненадежен";  
return 0; }
```

```
for (i = 0; i < m; i++)
```

```
for (j = 0; j < m; j++)
```

```
if (i + j == 1) * b / a
```

```
if (i * j == c / a) {
```

```
cout << "Надежен";
```

```
return 0; }
```

```
cout << "Ненадежен";
```

```
return 0;
```

```
}
```

Олимпиада школьников «Надежда энергетики»

СОШ №20 город Новоуральск

Место проведения

QQ 84-47

шифр

← Не заполнять
Заполняется
ответственным
работником

Вариант № 73991

ФАМИЛИЯ Тригорьев

ИМЯ Роман

ОТЧЕСТВО Андреевич

Дата рождения 13.05.2004

Класс: 9

Предмет информатика

Этап: заключительный

Работа выполнена на 3 листах

Дата выполнения работы: 16.02.2020
(число, месяц, год)

Подпись участника олимпиады: Рим

Впишите свою фамилию имя и отчество печатными буквами, дату рождения, класс, название предмета, этапа Олимпиады, общее количество листов, на которых выполнена работа и дату выполнения работы.



ВНИМАНИЕ! Проверяется только то, что записано с этой стороны листа в рамке справа

N 1

Чтобы определить кол-во датчиков, можно рассмотреть кол-во существующих: датчик может быть или нет, значит если у нас 3 знака, но если ответ мы не определяем. Если датчик 2, то один датчик ставится на IV позицию и проверяем на наличие датчика, если нет, то это 3 знака, а если есть проверяем еще и II датчик, если он присутствует, то это 2 знака, а если нет, то 1 знак. Также обозначим положительный сигнал на обеих дат., то это 2 знака, если только на IV — 1 знак, если только на II — 3 знака.

Ответ: 2 датчика. ±

N 2

Так как максимальная масса груза 40 кг, то для максимальной эффективности нужно чтобы все грузы были = 40 кг. Чтобы ~~было~~ увеличилась грузоподъемность I моста ^{на 1 м} на 1 м, тогда нужно убрать эту массу из всех и все уменьшится. Для 38 кг нужно I мосту ^{на 1 м} увеличить в грузовой вес. Для 37 кг будет, так II мосту ^{на 1 м} на 3 кг и убрать его. Таким образом, получаем равновесие: убираем II мост, убираем I мост, убираем на грузовой мосту I мост, возвращаем I мост на мосту без груза, а II возвращаем к грузу.



ВНИМАНИЕ! Проверяется только то, что записано с этой стороны листа в рамке справа

По тому принципу доказан до груза (малой
~~7~~ 31 кг. Доволен III группой малой 9 кг. По той
 же закономерности группа до ~~група~~ малой 13 кг,
 вторая половина груза малой 7 кг: $1+3+9+27=40$ кг
 По той же самой закономерности все можно
 вывести до малой группы малой от 1 до 40 кг
 Ответ: грузы малой 1 кг, 3 кг, 9 кг и 27 кг. +

~~Обратный алгоритм~~

Так как \overline{yx} - число двузначное, то $y \neq 0$

Сам алгоритм:

если $z=0$

для $z \neq 0$; пока z - однозначное число; (шаг +1),
 для $y=1$; пока y - однозначное число; (шаг +1)

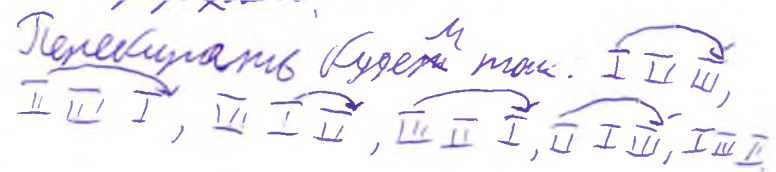
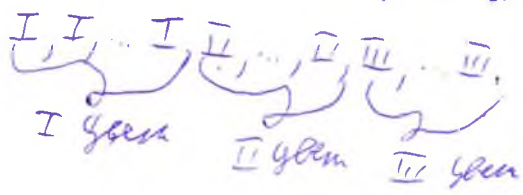
± для $x=0$; пока x - однозначное число; (шаг +1)

Если $A \cdot 0 \cdot \overline{yx} = 0$, то x, y и z - являются реш.

Таким образом мы переберем все варианты x, y и z ,
 а узнаем ничего не увидим.

Н 4

Так как мы не знаем и не можем назвать
 цвета камней, но переберем все цвета после того,
 как распределим цвета по III группам:





ВНИМАНИЕ! Проверяется только то, что записано с этой стороны листа в рамке справа

Три камня можно перевернуть на компартах 2х действий, т.к. каждой цвет мы перевернули по 2 раза.

Для того чтобы распределить цвета по группам воспользуемся алгоритмом:

Сравниваем И камень со всеми камнями, если

если цвета совпадают переставим его этой камню и снова перепроверим.

Сравниваем О камня по очереди со всеми оставшимися.

если o цвета совпадают, переставим этот камень в очередь.

№ 5

Введем числа x и y — они будут определять числа в Z_m . Алгоритм:

Если в уравнении $ax^2 + bx + c = 0$, $b^2 - 4ac < 0$, то этот корень не найден;

Иначе; если $\left(\frac{-b + \sqrt{b^2 - 4ac}}{2a}\right)$ или $\left(\frac{-b - \sqrt{b^2 - 4ac}}{2a}\right) = (x+y) \% m$ (х.у) % m, то корень найден;

Иначе корень не найден.

№ 2

Для каждой ширины мы имеем 3 стороны. Они на весах не на стороне груза, без груза ширины, навеса со стороны груза. Укажем величину разницы в массу груза. Как — во время масс на сторону между сторонами м груза — 1, но если дел 1 — это 0, а дел 3 — 2, а 1 имеет 2 масс со стороны

Олимпиада школьников «Надежда энергетики»

СФ МЭИ

Место проведения

№ 45-24

шифр

— Не заполнять
Заполняется
ответственным
работником

Вариант № 73101

ФАМИЛИЯ Грунтов

ИМЯ Дмитрий

ОТЧЕСТВО Игоревич

Дата рождения 27.01.2004

Класс: 10

Предмет информатика

Этап: Заключительный

Работа выполнена на 5 листах

Дата выполнения работы: 16 февраля 2020
(число, месяц, год)

Подпись участника олимпиады:

Впишите свою фамилию имя и отчество печатными буквами, дату рождения, класс, название предмета, этапа Олимпиады, общее количество листов, на которых выполнена работа и дату выполнения работы.



ВНИМАНИЕ! Проверяется только то, что записано с этой стороны листа в рамке справа

Задача №2.

Попробуем набрать максимальный W , имея всего 1 ширь. Пошлю, что если мы хотим набрать все веса от 1 до W имея всего 1 ширь, то мы должны будем взять ширь весом 1 . Теперь попробуем взять ширь большим весом так, что бы максимум взвешивать камни W . Пошлю, что нам будет не выгодно иметь 2 различные варианты собрать какой-то вес, лучше хотим получить данное неравенство.

$V - W > W$, где V - вес исконой ширь.

~~W - максимальный~~

Тогда $V > 2 \cdot W$, но для того, что бы W было в значении, как надо, что бы элемент $W+1$ присутствовал в нашей последовательности. Тогда $W+1 \leq V - W$.

Решая систему неравенств
$$\begin{cases} W+1 \leq V - W \\ V > 2 \cdot W \end{cases}$$

мы получаем, что $V = 2W + 1$.

Тогда по данной формуле и будем добирать веса ширь до того момента, пока $W < 90$.

В ответе мы получили 5 ширь с весами 1, 3, 9, 27, 81 кг.

Ответ 5 ширь с весами 1, 3, 9, 27 и 81 кг.



ВНИМАНИЕ! Проверяется только то, что записано с этой стороны листа в рамке справа

Задача № 3.

Объявим матрицу размера $N \times N$.

Инициализируем значениями данной матрицы

Введем начало и конец отрезка $[d, S]$.Перебираем номер строки, по которой мы идем от 1 до N . $N \geq 0$ $d \leq S$ { Если (номер строки) $\bmod 2 = 1$, то↓ идем по нашей строке массива от 1-го элемента до N -го проверим.если $d \leq \text{элемент массива} \leq S$, значитЭТОТ элемент лежит в заданном отрезке и мы нашли ответ \Rightarrow \Rightarrow выводим номер столбца и номер строки и завершаем программу.

}

иначе, если (номер строки) $\bmod 2 = 0$, то↓ идем по строке массива от N до 1 и проверяем; если $d \leq \text{элемент массива} \leq S$, то мы нашли ответ.

↓ выводим номер строки и номер столбца завершаем программу.

}

}

Т.к. до этого наша программа не была завершена то в нашем массиве нет элемента лежащего в отрезке $[d, S]$. Выводим, что победить невозможно и завершаем программу.



ВНИМАНИЕ! Проверяется только то, что записано с этой стороны листа в рамке справа

Задание 4 $S(x) = x - \frac{x^3}{2} + \frac{x^5}{3} - \frac{x^7}{4} \dots$
 Формула N -го слагаемого =

$$S_N = (-1)^{N+1} \cdot \frac{x^{(2N-1)}}{N}$$

Проверим ее.

Найдем по этой формуле первое слагаемое ($N=1$)

$$(-1)^{1+1} \cdot \frac{x^{(2 \cdot 1 - 1)}}{1} = 1 \cdot \frac{x}{1} = x$$

Найдем второе слагаемое ($N=2$)

$$(-1)^{2+1} \cdot \frac{x^{(2 \cdot 2 - 1)}}{2} = -1 \cdot \frac{x^3}{2} = -\frac{x^3}{2}$$

Найдем третье слагаемое ($N=3$)

$$(-1)^{3+1} \cdot \frac{x^{(3 \cdot 2 - 1)}}{3} = 1 \cdot \frac{x^5}{3} = \frac{x^5}{3}$$

Найдем четвертое слагаемое ($N=4$)

$$(-1)^{4+1} \cdot \frac{x^{(4 \cdot 2 - 1)}}{4} = -1 \cdot \frac{x^7}{4} = -\frac{x^7}{4}$$

Для формул нам увеличили слагаемое
 проверка прошла успешно.

$$(1) S_{N+1} = S_N \cdot \left(\frac{N}{N+1} \cdot (-x^2) \right)$$

$$(2) S_N = (-1)^{N+1} \cdot \frac{x^{2N-1}}{N}$$

В формуле №1 мы используем значение предыдущего слагаемого, что обязует нас посчитать все слагаемые, которые идут до N , что мы не можем сказать про формулу №2. В формуле №2 для любого N , мы получим однозначное кол-во действий.





ВНИМАНИЕ! Проверяется только то, что записано с этой стороны листа в рамке справа

Задача №5.

$$x \in \mathbb{N}$$

$$x \not\leq m$$

Обозначим $x \% m$ за величину числа x по модулю m .

Введем значения переменных a, b, c, m
Переберем значения x от 0 до $m-1$ и проверим.

если $((a \cdot x \cdot x) \% m + (b \cdot x) \% m + c \% m) \% m = 0$,

то код является корректным и мы можем вывести Yes (обозначение, что код является корректным и завершил программу).

Если до этого момента программа не завершилась, то ответа для данной квадратного уравнения не существует в множестве \mathbb{Z}_m и тогда наша программа говорит, что ответа нет.



Олимпиада школьников «Надежда энергетики»

СФ МЭИ

Место проведения

ИФР 84-93

шифр

← Не заполнять
Заполняется
ответственным
работником

Вариант № 73111

ФАМИЛИЯ ДЕМЕНТЬЕВА

ИМЯ АНАСТАСИЯ

ОТЧЕСТВО АЛЕКСЕЕВНА

Дата рождения 22 02 2002

Класс: 11

Предмет ИНФОРМАТИКА

Этап: ЗАКЛЮЧИТЕЛЬНЫЙ

Работа выполнена на 5 листах

Дата выполнения работы: 16.02.2020
(число, месяц, год)

Подпись участника олимпиады: 

Впишите свою фамилию имя и отчество печатными буквами, дату рождения, класс, название предмета, этапа Олимпиады, общее количество листов, на которых выполнена работа и дату выполнения работы.



ВНИМАНИЕ! Проверяется только то, что записано с этой стороны листа в рамке справа

2. 1) Запишем все числа в массив a

2) отсортируем его

нач
делает от $i = 1$ до $n - 1$

нач
делает от $j = i + 1$ до n

если $a[i] > a[j]$ то
нач

$t = a[i];$

$a[i] = a[j];$

$a[j] = t;$



k_1 k_2

k_3

k_4

3) вывести элемент по номеру k
($a[k]$).

4. Ответ: 5 фишек (1, 3, 9, 27, 81)

Будем брать камни так, чтобы

до добавления следующего мы

можем собрать все числа

(т.е. например, мы можем сложить

все числа от 1 до 5, значит следующий

число таковым, что вычитав из

него все числа от 1 до 5, мы получим

до числа 5).

Возьмем 1, тогда получим 2, нам

нужно $2 + 1 = 3$, следующий фишка 3

$3 = 3$; $4 = 3 + 1$, следующий мы $5 + 3 + 1 = 9$

знаем мы можем собрать все числа

от 1 до $9 + 3 + 3 = 13$, далее $14 + 13 = 27$

знаем камень 27, мы можем собрать

все числа от 1 до $1 + 3 + 9 + 27 = 40$.

$41 + 40 = 81$. Теперь мы можем собрать до $1 + 3 + 9 + 27 + 81 = 121$



ВНИМАНИЕ! Проверяется только то, что записано с этой стороны листа в рамке справа

3) Так как про длину бревен (l) ничего не сказано, то есть 3 варианта?

- 1) длина ~~задается~~
- 2) длина бревна = длина упирающего (L) - координата самого последнего бревна + 1
- 3) рассмотреть все возможные варианты от 1 до 2 пункта.

2) Запишем все координаты концов бревен в массив a .

3) Отсортируем его.
(Пример сортировки)

НАЧ

ДЕЛАЙ ОТ $i=1$ ДО $n-1$

НАЧ

ДЕЛАЙ ОТ $j=i+1$ ДО n

ЕСЛИ $a[i] > a[j]$ ТО

$t = a[i]$,

$a[i] = a[j]$.

$a[j] = t$

кц
кц)

4) Будем рассматривать координаты начала и конца всех бревен, тк между ними может не помещаться



одно значение



ВНИМАНИЕ! Проверяется только то, что записано с этой стороны листа в рамке справа

возьмем переменную $flag$ (целое)
 i, k - которые обозначают координаты
 S -кон-во дроби, max - максимальное
кон-во дроби.

~~flag = 1; S = 0;~~
ДЕЛАЙ от $i=1$ ДО n
НАЧ $S=1; flag=1;$
ДЕЛАЙ пока $(i-k > 0)$ и $(flag \neq 0)$
НАЧ
Если $a[i-k] + l > a[i]$ то
НАЧ
 $k = k + 1;$
 $S = S + 1;$
КЦ
ИНАЧЕ
 $flag = 0;$

КЦ
если $max < S$ то
 $max = S;$
 $S = i; flag = 1;$
ДЕЛАЙ пока $(i+k \leq L)$ и $(flag \neq 0)$
НАЧ
Если $a[i] + l < a[i+k]$ то
НАЧ
 $k = k + 1;$
 $S = S + 1;$
КЦ
ИНАЧЕ $flag = 0;$
КЦ
Если $max < S$ то
 $max = S;$

КЦ.
5) вывести max .



ВНИМАНИЕ! Проверяется только то, что записано с этой стороны листа в рамке справа

3. Ответ: 3

Найдём стигматическую герту у каждой символа.



↓
тут такой нет.

Поставим датчики на эти места (в последней вообще любой)

Если не загорится 1 датчик, то точно можно сказать, что это 4 символа,

Если не загорится 2 датчик, то точно можно сказать, что это 3 символа.

Если 3 датчик не загорится, то 1 символ.

Если загорится все, то это 2 символа

Мы можем говорить точно, т.к.

гертика, которая не загорается отсутствует только у одного из символов.


А все сразу присутствуют только у 2

(-1)



ВНИМАНИЕ! Проверяется только то, что записано с этой стороны листа в рамке справа

5.

Создадим двумерный массив $a[i, j]$ i, j - координаты, на которой стоим. n, m - координаты, которые заполним.

нач

 ~~$x = n, y = 1$~~ $x = n, y = 1, i = 1, j = 1$
ДЕЛАЙ пока $(x > 0)$ или $(y < n + 1)$

нач

делай пока $(i \leq n)$ или $(j \leq m)$

нач

Если $a[i, j] > 0$, то

нач

 $n = i,$ $m = j,$

кц

 $i = i + 1,$ $j = j + 1,$

кц

 ~~$x = x - 1,$~~ Если $x - 1 \leq 0$, то ~~$y = y + 1,$~~ ~~$i = x,$~~ ~~$j = y,$~~ ~~$y = y + 1,$~~ ~~$j = y,$~~ ~~$y = y + 1,$~~ ~~$j = y,$~~ ~~$y = y + 1,$~~ ~~$j = y,$~~ ~~$y = y + 1,$~~ ~~$j = y,$~~ ~~$y = y + 1,$~~ ~~$j = y,$~~ ~~$y = y + 1,$~~ ~~$j = y,$~~ ~~$y = y + 1,$~~ ~~$j = y,$~~ ~~$y = y + 1,$~~ ~~$j = y,$~~ ~~$y = y + 1,$~~ ~~$j = y,$~~ ~~$y = y + 1,$~~ ~~$j = y,$~~ ~~$y = y + 1,$~~ ~~$j = y,$~~ ~~$y = y + 1,$~~ ~~$j = y,$~~

кц

кц

Итого

ответ: n, m 

Олимпиада школьников «Надежда энергетики»

Школа "Солн" № 2 "Юнош"
Бережовский
Место проведения

ИГ 34-80
шифр

← Не заполнять
Заполняется
ответственным
работником

Вариант № 73101

ФАМИЛИЯ ЕГОРОВ

ИМЯ МАКСИМ

ОТЧЕСТВО ЮРЬЕВИЧ

Дата рождения 01.07.2003

Класс: 10

Предмет ИНФОРМАТИКА

Этап: ЗАКЛЮЧИТЕЛЬНЫЙ

Работа выполнена на 6 листах

Дата выполнения работы: 16.02.2020
(число, месяц, год)

Подпись участника олимпиады: 

Впишите свою фамилию имя и отчество печатными буквами, дату рождения, класс, название предмета, этапа Олимпиады, общее количество листов, на которых выполнена работа и дату выполнения работы.



ВНИМАНИЕ! Проверяется только то, что записано с этой стороны листа в рамке справа

Для каждого из знаков создадим массив элементов $\{ \dots \}$, где пометим знаменителем следующую часть прямоугольника матрицы:

значения 1 - маленькие ребра, 0 - отрицательные, тогда алгоритм следующий:

ответ = 8 // уменьшение или в декарте
 знак 1, знак 2, знак 3, знак 4 - массив для каждого прямоугольника
 все знаки / массив с пометками, где в центре
 // прямоугольнике есть и то же значение

- значения знак 1
- значения знак 2
- значения знак 3
- значения знак 4

цикл от $i=0$ до $i=5$

Если знак 1 $\{i\}$ == знак 2 $\{i\}$ == знак 3 $\{i\}$ == знак 4 $\{i\}$, то

ответ = ответ - 1 // уменьшение ответа за
 // счет неиспользованных знаков
 функцией $f(i)$ // i - неиспользуемое значение

цикл от $i=0$ до $i=5$ // проверка двукратной матрицы

бита / массив $\{ \dots \}$, пометки, где в массиве стоит 1

матрица $\{ \dots \}$ // не переменная, пометки или и

- // в массиве используются
- // биты

матрица $\{ \dots \}$ // уменьшение значения при каждой пом.

значения битов, или бит где в массиве жидкий, пометки или = False

матрица $\{ \dots \}$ //

Если матрица - используется, то
цикл от $j=0$ до $j=5$

Если все биты в знаке 1 == 1 или == 0 и все биты

в знаке 2 == 0 или == 1 и все биты в знаке 3 == 0 или == 1

и все биты в знаке 4 == 0 или == 1, то и размер массива > 1

матрица $\{ \dots \}$ = размер массива (биты)

~~ответ = ответ - (матрица $\{ \dots \}$)~~

ответ = ответ - (матрица $\{ \dots \}$ - 1) // уменьшение количества

функцией $f(i)$ (массив битов) // битовых значений

~~матрица $\{ \dots \}$ / не переменной.~~

цикл от $i=0$ до $i=5$, где
 цикл от $j=0$ до $j=5$ если $i \neq j$ и
 i не в массиве и j не в массиве и в массиве значения $i \neq j$, то



ВНИМАНИЕ! Проверяется только то, что записано с этой стороны листа в рамке справа

~~для ответа мы выносим из условия, возможные
мы не анализируем:~~

~~1 мы можем не перебирать ячеек 0, 1, 5,~~

~~$5 \mid \frac{0}{4} - \frac{1}{5} \mid 2$, т.п. в любой ячейке они сбалансированы~~

~~мы знаем ответ = ответ - 1 (каждому из 6 уравнений
ячейки, сумма сбалансированы (i, j)
дополн. ответ)~~

~~нон ан.~~

~~для ответа мы выносим из условия, возможные
мы не анализируем!~~

~~$5 \mid \frac{0}{4} - \frac{1}{5} \mid 2$~~

~~1 мы можем перебрать ячейки 0, 1, 5, т.п.
в любой ячейке они сбалансированы, ответ = 6-3~~

~~2 можем ячейки, которые в ячейке
интересно и по тем значениям и по формуле
сбалансированы — это ячейки 2, т.п. она одна, но
ответ не изменяется~~

~~3 можем перебрать все возможные ячейки
(пример: одна ячейка 1, другая 0, и т.п. в ячейке значение
ячейки в примере нет)~~

~~Итоговый ответ: 3 (2, 3, 4 ячейки)~~

2 легко заметить, что для взвешивания
любого веса наиболее выгодно
использовать 3^k чист, веса которых являются
степенями 3, дающие 3^k веса, равного форму
веса чист, т.п. чист весом $\frac{3^k - 1}{2}$ можно
взвесить ровно k чист (пример из условия,
 $W = 40$, чист 1, 3, 9, 27), тогда, чтобы взвесить
чист $W = 90$, нужно 5 чист $\rightarrow 1, 3, 9, 27, 81$

(+)

Заметить это можно тем методом, что



ВНИМАНИЕ! Проверяется только то, что записано с этой стороны листа в рамке справа

любое число N можно разложить на сумму степеней двойки, добавив и число не более $\lceil \log_2(N) \rceil - 1$

~3 Предустановка таблицы сестрициной
обращая: $\begin{matrix} & 0 & 1 & 2 & \dots & N-1 \\ 0 & & & & & \\ 1 & & & & & \\ 2 & & & & & \\ \dots & & & & & \\ N-1 & & & & & \end{matrix}$ двумерный массив, где первый индекс - строка, второй - столбец

массив $d[s]$ (диагональ значений)
массив pos (массив позиций, где элемент s)
массив ans (массив ответов)



значения массива
 $pos = 0$ // направление движения
 $d[x][2] = \{1, -1\}$ // движение по оси столбцов
 $y = 0$ - строка
 $x = 0$ - столбец
 $N > 0$?

массив ans ($y < N$)
массив $pos = \{s\}$ (массив позиций, где элемент s)

массив ans ($x < N$ и $x > -1$)

Если $num[y][x] \geq d$ и $num[y][x] \leq s$, то

массив pos добавили (пара (y, x))

$x = x + d[x][pos]$

$pos = (pos + 1) \% 2$

$x = x + d[x][pos]$

$y = y + 1$

Если массив pos не пуст, то

Если "на ходу движение" - движение \Rightarrow

$ans[y] = pos[s]$

иначе \Rightarrow

$ans[y] = pos[s] \in$ массив pos (массив pos) - 1]

~~bool ans (ответ) // ответ [7] // ответ [0] по ходу y ,
сложность алгоритма // ответ [7] по ходу x~~

~~bool (массив pos не пуст)~~

// массив pos с 1

bool (ответ [0] + 1, ответ [7] + 1) // ответ [0] -

завершение программы

// строка

// ответ [7] -

// столбец

// массив pos

с 1

bool ("возвращают элемент не найден")



ВНИМАНИЕ! Проверяется только то, что записано с этой стороны листа в рамке справа

~4
Факторизация кубов числа по модулю 4
модулю 4.

√	1	2	3	4
∛	x	√3	x ²	√#
∗	1	-2	3	-4

тогда

1) N-ый член последовательности равен

$$P(N) = \frac{x^{(N-2)-1}}{N \cdot (-1)^{(N+1)\%2}}$$

2) Три реализации 1 варианта можно получить 2 способами

1) общее возведение в степень →
(N-2) - унитарный, 2 деления

2) общее возведение в степень
 $\log_2(N) + 2$ деления + метаграфические риски
2 варианта.

~~4 деления~~ 2 унитарных 3 деления

в 1) 1 вариант возведение при

$N \leq 13$, при $N > 4$ возведение 2

во 2) 1 вариант возведение при $N < 16$

при $N \geq 16$ возведение 2

~5. Сформулируем 8 вариантов содержания

a, b, c

a	b	c
c	0	0
c	c	0
0	0	0
0	0	0

a	b	c
0	0	0
0	0	0
0	0	0
0	0	0

м.л. элементов

Σ м содержимое
от деления

числа m и n, но все члены в Σ -
неупорядоченные, принадлежат $[0; m-1]$
анализ всевозможных ситуаций.



ВНИМАНИЕ! Проверяется только то, что записано с этой стороны листа в рамке справа

№1 Представьте примитивным в арифметике машина, где якими помірками обозначаются следующие:

$$0 \left| \begin{array}{cc} 1 & 2 \\ 5 & 4 \end{array} \right| 3 \text{ , чтобы иметь}$$

необходимое минимальное количество действий в арифметической машине, где 0 - минимальные действия в арифметическом выражении, 1 - минимальные действия в арифметическом выражении, 2 - минимальные действия, перебираем

Прежде всего, что в арифметике (2) через минимальное количество действий, чтобы в арифметике из арифметики

1	2	2	2	1	0	0
2	2	2	2	1	1	0
3	2	2	2	0	1	1
4	2	2	2	0	0	0

можно заметить, что минимальное количество действий с минимальными действиями => ответ в минимальном примере → 2 действия.

В арифметике не следует минимальное количество действий перебирать все, так как минимальное количество действий в арифметике, где не будет равных действий, ответом не будет минимальное количество действий.

(2)-минимальное количество действий в арифметике №2, где

1 - минимальное количество действий в арифметике

Ответ: 2 действия.



Олимпиада школьников «Надежда энергетики»

СОШ 20 г. Новочебоксарск

Место проведения

КМ 34-76

шифр

← Не заполнять
Заполняется
ответственным
работником

Вариант № 73 III

ФАМИЛИЯ КАПРАНОВ

ИМЯ СТЕПАН

ОТЧЕСТВО СЕРГЕЕВИЧ

Дата рождения 02.02.2002

Класс: 11

Предмет информатика

Этап: Заключительный

Работа выполнена на 5 листах

Дата выполнения работы: 16.02.2020
(число, месяц, год)

Подпись участника олимпиады: 

Впишите свою фамилию имя и отчество печатными буквами, дату рождения, класс, название предмета, этапа Олимпиады, общее количество листов, на которых выполнена работа и дату выполнения работы.



ВНИМАНИЕ! Проверяется только то, что записано с этой стороны листа в рамке справа

21

1) Заметим, что левая черта имеется у всех знаков, а правая не имеется у одного, значит мы всегда сможем опр. информацию, если установим датчик на правую черту

2) Если мы посмотрим на 3 элемента, у которых правая черта имеется:

$\begin{array}{|c|} \hline \text{---} \\ \hline \end{array}$ $\begin{array}{|c|} \hline \text{---} \\ \hline \end{array}$ $\begin{array}{|c|} \hline \text{---} \\ \hline \end{array}$, то заметим, что у двух из них

сверху 2 черты, а у третьего - ни одной. Поставив датчик напротив правой верхней черты, мы сможем различить 3-й элемент всегда.

3) У оставшихся двух элементов: $\begin{array}{|c|} \hline \text{---} \\ \hline \end{array}$, $\begin{array}{|c|} \hline \text{---} \\ \hline \end{array}$ - имеется одно различие - правая нижняя черта. Установив туда датчик, мы сможем однозначно определить любой из 4-х знаков, т.е. необходимо 3 датчика. Чтобы доказать, что 3-микамильнее как-то, докажем, что не возможно за 2 датчика определить знак однозначно.

Для того, чтобы 4 знака однозначно определялись 2-мя датчиками, нужно потребовать выдачи следующих сигналов:

$\begin{cases} \text{есть} \\ \text{нет} \end{cases}$	$\begin{cases} \text{нет} \\ \text{есть} \end{cases}$	$\begin{cases} \text{нет} \\ \text{нет} \end{cases}$	$\begin{cases} \text{есть} \\ \text{есть} \end{cases}$
---	---	--	--

- здесь каждый датчик определяет есть черта или нет. Т.е. нам нужно найти два таких места, чтобы у двух из 4-х знаков там была черта, а у двух других там ее не было.

Из рассуждений 1-3 ясно, что это не может быть ни боковая, ни верхняя черта. При этом левая нижняя ~~есть~~ имеется у 3-х знаков. Значит, данный набор не возможно однозначно определить 2-мя датчиками

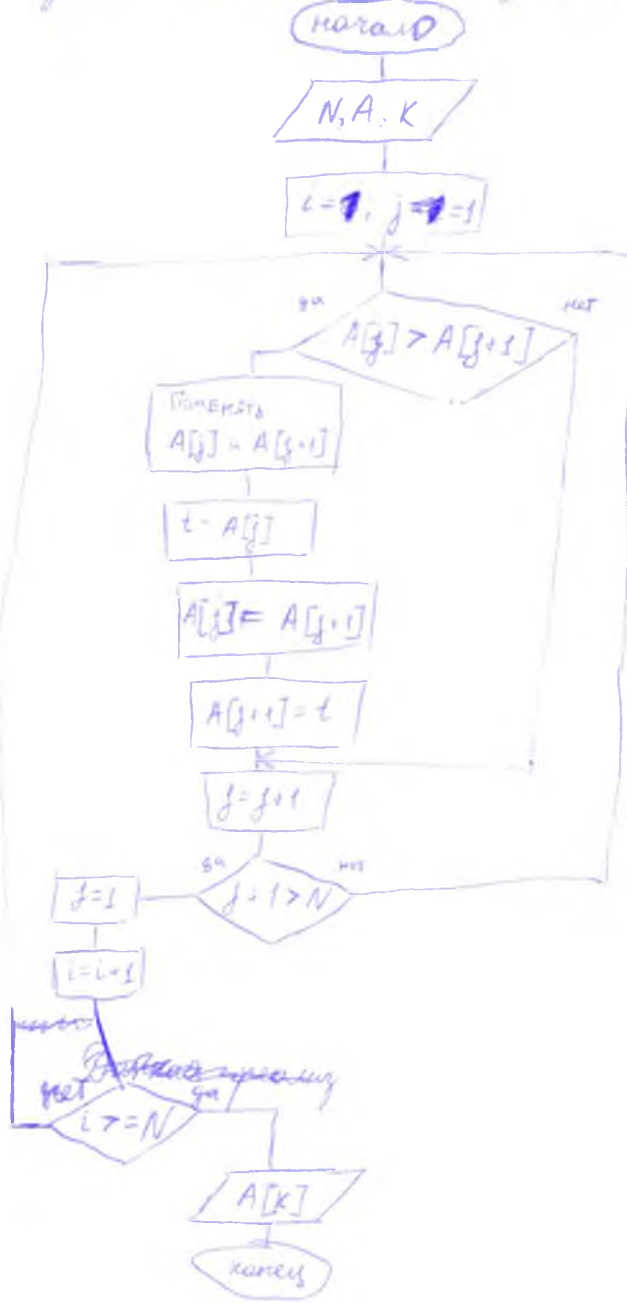
т.е.г

 Ответ: 3 датчика.



ВНИМАНИЕ! Проверяется только то, что записано с этой стороны листа в рамке справа

№2 - Отсортировать массив за $O(N^2)$ и вывести k -ый элемент за $O(1)$.
 Общее число операций при этом будет $O(N^2)$.
 Пусть A - массив чисел длины N .



Сортировка пузырьком работает за $O(N^2)$.
 (Внутренний цикл работает за N раз, внешний цикл за N раз, $N \cdot N = N^2$)
 Вывод происходит за $O(1)$.

Континентальная реализация пузырька
 ⊕



ВНИМАНИЕ! Проверяется только то, что записано с этой стороны листа в рамке справа

¹⁵ Пусть нумерация строк идет сверху вниз от 1 до N , нумерация столбцов слева направо от 1 до N . Начинаем в ячейке $[1, N]$.

Будем хранить последнее положительное число в виде его позиции в этой таблице. Пусть x, y - номер строки и столбца этого числа.

Всю таблицу можно пройти за $O(N^2)$, при этом внешний цикл будет работать по-разному в первой половине таблицы и во второй.

Внутренний цикл будет выполняться следующим образом:

- 1) ~~Перейти из~~ Если хотя бы одна из i или j равна N - выйти из цикла.
- 2) Перейти в ячейку $[i+1, j+1]$, т.е. $i=i+1; j=j+1$;
- 3) Если $A[i, j] > 0$, то $x=i; y=j$.

Теперь нужно определить работу внешнего цикла т.к. внутренний всегда делает одно и то же. Посмотрим, где начинается, и заканчивает работу внешний цикл:

начало	$[1, N]$	$[1, N-1]$	$[1, N-2]$	$[1, 1]$	$[2, 1]$	$[3, 1]$	$[N, 1]$
конец	$[1, N]$	$[2, N]$	$[3, N]$	$[N, N]$	$[N, N-1]$	$[N, N-2]$	$[N, 1]$

Внешний цикл может начинаться по-разному: по одному принципу первую половину (до главной диагонали) и по другому принципу - во второй половине. Введем переменную-флаг, принимающую либо 1, либо 0 ($f=1$ или $f=0$). Изначально $f=1$. Как только мы выходим из внешнего цикла, смотрим на значение f . Если $f=1$, то начальное положение ставим так: $j=N-i; i=1$; если да, если $f=1$ и $i=1$, то меняем значение $f \neq 0$. На следующих проходах цикла если $f=0$, то меняем начальное положение так: $i=N-j; j=1$. Таким образом, мы пройдем все ячейки таблицы. Наконец, когда после прохода внутреннего цикла передается положение $[N, 1]$, т.е. $i=N, j=1$, мы выходим из цикла и выводим значение $A[x, y]$



ВНИМАНИЕ! Проверяется только то, что записано с этой стороны листа в рамке справа

24

Пусть существует какой-то набор гири, состоящий из 4-х штук, при этом они могут взвесить любой груз от 1 до 40 кг. Заметим, что мы можем решить аналогичную задачу для $Q=120$ кг, если добавим гирю 80 кг:

- 1) Если груз $x \in [1; 40]$, то мы можем его взвесить уникальным набором
- 2) Если груз $x \in [41; 80]$, то мы можем дотолкнуть его до 60 уникальным набором и сравнить с гирей 80 кг.
- 3) Если груз $x \in [81; 120]$, то мы можем его составить из уникального набора и гири 80 кг ($80 + 40 = 120$).

Таким рассуждением можно использовать, чтобы определить остальные гири: $\frac{80}{120} = \frac{2}{3} \Rightarrow$ пусть гиря в уникальном наборе имела вес $\frac{2}{3} \cdot 40 \text{ кг} = \frac{80}{3} \text{ кг} = 26\frac{2}{3} \text{ кг} \approx 27 \text{ кг}$. Если одна из уникальных 4-х гирь имела массу 27 кг, то остальные три можно было измерить $40 - 27 = 13 \text{ кг}$.

Значит из набора 3-х гирь, максимальная должна иметь массу $\frac{2}{3} \cdot 13 \text{ кг} \approx 9 \text{ кг} \Rightarrow$ последними двумя можно было измерить массы $13 - 9 = 4 \text{ кг} \Rightarrow 4 \cdot \frac{2}{3} = \frac{8}{3} = 3 \Rightarrow$

\Rightarrow набор гирь $\{1, 3, 9, 13, 27\}$. Этим набором можно взвесить любой груз Q от 1 до 40 кг. Значит, набором $1, 3, 9, 13, 27, 80$ можно взвесить любое Q от 1 до 120 кг исходя из рассуждений выше.

Данный набор является наименьшим по кол-ву т.е. набор из 4-х гирь в таком случае не сможет содержать гирю массой 1 кг, без которой невозможно измерить $Q=1$ кг. Значит набор наименьший.

Ответ: 1, 3, 9, 13, 27, 80





ВНИМАНИЕ! Проверяется только то, что записано с этой стороны листа в рамке справа

№3

Т.к мы не знаем, в каком именно направлении лежат брёвна, будем считать, что можно принять координаты начала брёвны за окружности с одинаковыми радиусами. Чтобы найти самое большое скопление брёвны, найдём, при какой минимальной длине брёвны имеется одно наибольшее скопление (Если при меньшей длине таких скоплений стало два или более, доказать не сможем определить, где находится богатства). Для поиска минимально возможной длины брёвны воспользуемся бинарным поиском.

Пусть искомого предпологаемая длина брёвны равна длине участка. Находим наибольшее скопление. Теперь делим длину брёвны пополам, если все ещё имеется одно скопление, продолжим сужать границы, ~~иначе~~ находя среднее арифметическое точек. Если появилось несколько скоплений, меняем левую границу на среднее арифметическое текущих границ. Таким образом, можем определить возможное место нахождения богатств с любой точностью, если поставим условие по размерам границ рассматриваемого участка (Если радиус $\in [a; b]$ таких, что $\frac{a+b}{2} < \Delta x$, где Δx - желаемая точность).

Для того, чтобы посчитать величину скопления в одной точке, нужно просто подставить её в неравенство $(x-x_i)^2 + (y-y_i)^2 \leq R^2$, где R - текущий радиус брёвны $(x_i; y_i)$ - координаты начала брёвны, где $i \in [1..N]$, $i \in \mathbb{N}$. Такую операцию можно проделать для любой к-во точек. Остаётся на каждом шаге предполагаемого радиуса подсчитать максимальное к-во брёвны, пересекающихся в одной точке. Получим предполагаемую область, где находится богатства с любой точностью.

Олимпиада школьников «Надежда энергетики»

МЭИ, г. Москва

Место проведения

МЯ 67-30

шифр

← Не заполнять
Заполняется
ответственным
работником

Вариант № 73111

ФАМИЛИЯ Курб

ИМЯ Романчик

ОТЧЕСТВО Александрович

Дата рождения 24.01.2002.

Класс: II

Предмет Информатика

Этап: Заключительный

Работа выполнена на _____ листах

Дата выполнения работы: 16.02.2020
(число, месяц, год)

Подпись участника олимпиады: 

Впишите свою фамилию имя и отчество печатными буквами, дату рождения, класс, название предмета, этапа Олимпиады, общее количество листов, на которых выполнена работа и дату выполнения работы.



ВНИМАНИЕ! Проверяется только то, что записано с этой стороны листа в рамке справа

№3

Давайте для канала прокумерует каждую черту по часовой стрелке, начиная с ~~из~~ самой левой:

Представим, что у нас есть все датчики и запишем в таблицу номера черточек, которые существуют у того или иного символа (1-существует, 0-нет):

Символ \ Черточка	1	2	3	4	5	6
1	1	1	1	1	0	0
2	1	1	1	1	1	0
3	1	1	1	0	1	1
4	1	0	0	1	1	1

Запишем свои наблюдения:

- Можно исключить 1-ю черту вовсе, т.к. у всех символов значение идентично.
- Можно исключить 2-ю черту, т.к. ~~её~~ её значение идентично 3-ей.

~~Важно~~ у каждого датчика есть значение 0 и значение 1, соответственно, мы можем найти максимальное возможное кол-во ~~идентификационных~~ ^{первичных} признаков значения с «идеальными символами» - это будет степень двойки ~~меньше~~, не меньшая данного значения, для ~~каждого~~ 4 - это 2, т.е. есть идеальные символы должны иметь такие две черты, что в таблице они бы записались следующим образом

Значения символов черт	1	2
a1	x	x
a2	x	y
a3	y	x
a4	y	y

где x, y может равняться 0 и 1, при этом $x \neq y$, а a_1, a_2, a_3, a_4 - ~~разные~~ номера символов от 1 до 4 в разных вариациях.

В данных как символах есть черта №6, которая удовлетворяет этому условию, но второй необходим черты нет, следовательно 2 датчика использовать точно не получится



ВНИМАНИЕ! Проверяется только то, что записано с этой стороны листа в рамке справа

Таким образом черта 6 разделяет символы на две группы: 1, 2 и 3, 4, соответственно далее как необходимо найти ~~те~~ те черты, которые помогут нам отличить 1 от 2 и 3 от 4: для того, чтобы отличить 1 от 2 нам подходит только 5-ая ^{черта} ~~черта~~: если она есть, то перед нами ~~ка~~ 2-й, если нет - 1-й символ (при условии, что ~~ка~~ 6-ая ~~черта~~ черты нет). Далее, как необходимо отыскать черту, с помощью которой можно будет отличить 3-й символ от 4-го: для этого подойдёт как 3-я, так и 4-я черты, мы выберем 4-ю.

Таким образом с помощью ~~ка~~ 3-х датчиков можно отличить 4 символа, занесем данные в таблицу

С И М В О Л Ы	показания датчиков			номер черт
	4-я	5-я	6-я	
1	1	0	0	
2	1	1	0	
3	0	1	1	
4	1	1	1	

можно заметить, что показания каждого символа отличаются, что

(+)

Ответ: 3 черты, не меньше (датчика)

№2

Буду писать алгоритм на псевдокоде в стиле Python, т.к. по моему мнению, он сильно похож на нормальную речь

$a[i]$ # колонка чисел, где над $a[i]$ находится i -й элемент,

n # ~~максимальный~~ исходный номер числа $n \in [1; n]$ $i \in [0; n), i \in \mathbb{Z}$

for i in range(n): # переберём все i от 0 до $n-1$ ($[0; n)$)

for j in range($i+1, n$): # переберём для каждого i j от $i+1$

if $a[i] > a[j]$: # если элемент a_i (9-т. меньшим номером) $9 \in \mathbb{N}$

save = $a[i]$ # запомнили a_j (9-т. большим), то меняем их местами

$a[i] = a[j]$ # заменили $a[i]$ на $a[j]$

$a[j] = save$ # ~~не~~ заменили $a[j]$ на $a[i]$ из дуплета



ВНИМАНИЕ! Проверяется только то, что записано с этой стороны листа в рамке справа

Таким образом, у нас получился отсортированный массив, состоящий из элементов данных. Ключом к решению является `print a[k-1]` # выводим ответ на задачу.

Вывели $(k-1)$ -й элемент массива, т.к. номера корзины начинаются с 1, а номера массива с 0.

ответ: $a[k-1]$, а кол-во операций $\frac{N \cdot (N+1)}{2} < N^2$ (±)

№ 4.

Идем от меньшего к большему:

пусть X_i - количество ~~весов~~ ^{весов}, которые мы можем получить с помощью i ~~гирь~~ ^{гирь} разного веса, а A_i - количество весов этих самых гирь:

Для начала получим веса с помощью 1-ой гири:

чтобы веса не имели "дыр" и мы могли каждый раз, добавляя новую гирию, увеличивать веса постепенно мы начнем с гири массой 1.

Т.о. $X_1: [0; 1], A_1: \{1\}$

Далее возьмем гирию на $(X_i: \max(\text{каждую массу}) + 1)$, чтобы получить максимум из того что можем получить с предыдущей кол-вом на левую чашу, а новую гирию на правую, мы получили массу, следующую после максимальной. Т.о. $X_2: [0; X_{1, \max} + 1]; X_2: [0; 2]$

Т.к. 2 мы можем получить 3-1, 3: 3, 4: 4+1. $A_2: \{1, 3\}$

Далее следуем тому же принципу

$X_3: [0; 13], A_3: \{1, 3, 9\}$

$X_4: [0; 40], A_4: \{1, 3, 9, 27\}$

на четырех гирях мы уже можем получить \forall вес при $a=40$. Делаем следующую итерацию:

$X_5: [0; 121], A_5: \{1, 3, 9, 27, 81\}$, при 5-ти мы уже




ВНИМАНИЕ! Проверяется только то, что записано с этой стороны листа в рамке справа

можем работать с $Q = 120$ ~~вс~~ иго
и требовалась катушка.

Ответ: минимальное число гурь: 5, гурь: {1; 3; 9; 27; 81}
№ 5

Т.к. нумерацию таблицы как не дали,
я пронумерую её самостоятельно: пусть ось X
будет слева \rightarrow направо (самая левая колонка будет
1-ой по X , а самая правая - n -ой), а ось Y -
снизу \uparrow вверх (самая нижняя строка будет 1-ой по Oy ,
самая верхняя - n -ой)



~~Т.к. нумерация была дана~~

пусть координатой по Ox будет $cond.x$, а координатой
по Oy - $cond.y$, а номера в таблице будут храниться
в массиве $a[n+1][n+1]$.

Т.о. напишем код в стиле как во 2-ой задаче

```

While cond.x > 1 and cond.y > 1:
    print a[pos.x][pos.y] # выводим число данное в таблице
    if pos.y == 1:
        pos.y = pos.x - 1
        pos.x = 1
        continue # переходим на следующую итерацию цикла
    if pos.x == n:
        pos.x = pos.y - 1
        pos.y = n
        continue # переходим на следующую итерацию цикла
    pos.x = pos.x + 1
    pos.y = pos.y - 1

```

print(a[1][1]) # выводим ~~последнее~~ последнее число
в таблице - координаты выхода



ВНИМАНИЕ! Проверяется только то, что записано с этой стороны листа в рамке справа

таким образом, мы идем по таблице так, как сказано в условии и выводим значения в этой самой таблице.

№ 3

Предположим, что я покал у себя в практике:
~~мы~~ координаты конца бревна - это ~~бывшие~~ координаты
 левой и правой границы на которых распределены бревна,
 l - длина одного бревна, n - всего бревен, и бревна
 падают в свободное пространство (каждое последующее)
 $pair < int, int >$ $b[n]$ - массив координат
 расположения бревен
 $b.f$ - по высоте $b.s$ - по длине (по оси x , если так удобнее)

~~Алгоритм сортировки:~~

пройдемся по всему массиву и запишем
 в переменную $pair < int, int >$ ~~max~~ координаты
 самого высокого бревна. т.к. самое высокое
 скопление существует, то это самое высокое
 бревно тоже должно существовать.

for i in range(n):

if ~~max~~ $mx.f < b[i].f$:

$mx.f = b[i].f$

$mx.s = b[i].s$

~~print mx.s, b, mx.f~~

print "[", $mx.s$, ";", $mx.s + l$, "]", где

l - длина бревна. т.о. мы выведем
 диапазон координат, на которых могут находиться
 наши богатые.

Олимпиада школьников «Надежда энергетики»

МЭИ, г. Москва

Место проведения

МЯ 64-13

шифр

← Не заполнять
Заполняется
ответственным
работником

Вариант № 43111

ФАМИЛИЯ КУЦЕНКОВ

ИМЯ МАКСИМ

ОТЧЕСТВО ВАЛЕРЬЕВИЧ

Дата рождения 17.08.2002

Класс: 11

Предмет ИНФОРМАТИКА

Этап: ЗАКЛЮЧИТЕЛЬНЫЙ

Работа выполнена на 5 листах

Дата выполнения работы: 16.02.2020
(число, месяц, год)

Подпись участника олимпиады: 

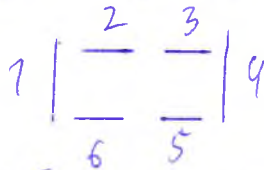
Впишите свою фамилию имя и отчество печатными буквами, дату рождения, класс, название предмета, этапа Олимпиады, общее количество листов, на которых выполнена работа и дату выполнения работы.



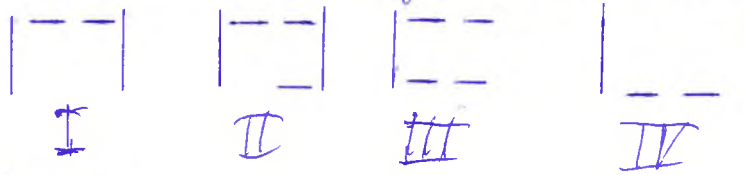
ВНИМАНИЕ! Проверяется только то, что записано с этой стороны листа в рамке справа

№7.

Обозначим каждую черту из прямоугольного знака символами:



Рассмотрим и обозначим символами знаки:



Заметим, что только у символа III непрерывна черта 4, а черта 1 прерываема у всех символов ⇒ определение составных черт 1 не позволит определить, какому знаку она принадлежит; определение символа 4 позволит однозначно определить знак II.

Заметим, что группы символов 2 и 3 совпадают у знаков I и II, а группы 5 и 6 совпадают у знаков III и IV. ⇒ для определения знака III необходимо установить датчик на черту 4.

Рассмотрим знаки I и II: у знака II непрерывна черта 6, у знака I непрерывны черта 5 и 6, у знака III черта 5 и 6 прерываема. Для окончательного определения знака II необходимо установить датчик на обе черты (5 и 6). Таким образом, будет возможно определить и знаки I и IV.

Рассмотрим знаки I, II, III, IV, составившие только одну черту 4, 5, 6. Обозначим непрерывность черты как \pm (символ \pm в кружке).

I	II	III	IV
\sim	\sim	\sim	\sim

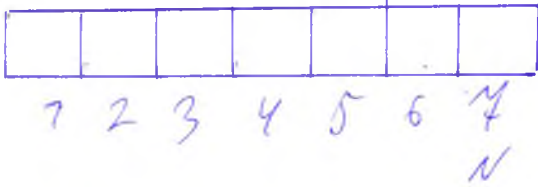
⇒ Каждый знак можно однозначно определить с 3 датчиками



ВНИМАНИЕ! Проверяется только то, что записано с этой стороны листа в рамке справа

№2.

Оборачивая каждую фигуру N как a , пронумеруем углы каждой от 1 до N .



В ячейках записываем углы числа. Необходимо найти k -ое по возрастанию число в массиве. Число найдем это

число, необходимо, начиная с числа k проверять, какое оно по возрастанию среди чисел, записанных до него (до числа с углов k не проверяем, поскольку проверяем, какое оно по возрастанию, т.е. k -ым по возрастанию оно должно не быть).

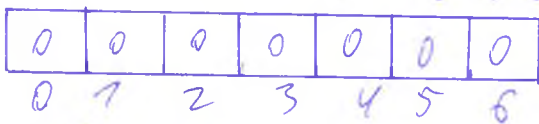
Алгоритм поиска k -ого числа $N, k; a$ - оборачиваем массив чисел:

$C = 0$
 $m = a[i]$
 для j от i до N включительно:
 если $a[j] < m$ то:
 $m = a[j]$
 $C = C + 1$
 если $C = k$ то: вывод $a[i]$.

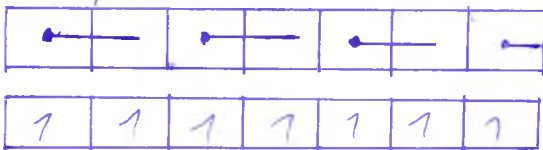


№3.

Оборачивая углы как массив чисел (нулей) длиной N (I глава определяет длину углов).



Пример:



I глава определяет координаты начала отрезка, II глава определяет, что их длина отрезков и что их n штук.

Оборачивая координаты начала отрезка как точки (для примера длину отрезков как 1 , выходя из точек).



ВНИМАНИЕ! Проверяется только то, что записано с этой стороны листа в рамке справа

Запомним, что ^{каждый} бревен может выходить за пределы фигуры. Из предположения третьей главы следует, что при отрисовке бревен к окружностям такой же длины массив, который будет ^{формальной} плоским. По ходу алгоритма будем увеличивать k на 1, если максимальный элемент равен 0.

Формальным алгоритмом (имеем массив a (из нулей) и b (из 0 в зависимости, является ли ячейка координатной парой бревна), длину фигуры N , число бревен n):

```

ну для  $k = 1, k = 1$   $a = \text{массив нулей}$   $k = 1$ 
ну для  $i$  от 0 до  $N$  не включительно:
    если  $b[i] = 1$  то:
        ну для  $j$  от 0 до  $k$  не включительно:
             $a[i+j] = a[i+j] + 1$ 
            если  $i+j < N$  то:
                 $a[i+j] = a[i+j] + 1$ .
         $k = k + 1$ 
         $m = a[i]$ 
         $ans = i$ 
    иначе:
        если  $a[i] > m$ :
             $m = a[i]$ 
             $ans = i$ 
        иначе:
            вывод  $ans$ , конец
         $k = k + 1$ 
        возврат к строке 2.

```

Алгоритм $a = \text{массив нулей}$: ну для i от 0 до N не включительно: $a[i] = 0$



ВНИМАНИЕ! Проверяется только то, что записано с этой стороны листа в рамке справа

№4.

Удивительно, что любое число можно записать в двоичной системе счисления.

Будем брать три веса, равным отрезкам двойки, рассмотрим, какие максимальные числа можно сбалансировать:

$$\begin{aligned}
 1 &\rightarrow 1 & 1+2+4+8 &\rightarrow 15 \\
 1+2 &\rightarrow 3 & 1+2+4+8+16 &\rightarrow 31 \\
 1+2+4 &\rightarrow 7 & 1+2+4+8+16+32 &\rightarrow 63
 \end{aligned}$$

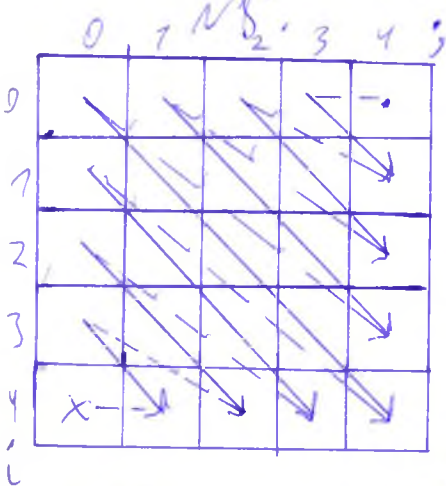
Заметим, что при n весах, равным отрезкам двойки, можно получить число $2^n - 1$

Имея 6 весов, можно взвесить груз в 63 кг ⇨



⇨ для взвешивания груза с $Q = 120$ кг потребуется больше 6 весов.

Имея 7 весов, можно взвесить груз в $2^7 - 1 = 127$ кг ⇨
⇨ 7 весов достаточно для взвешивания груза с $Q = 120$ кг.
Очевидно: 7 весов весом 1, 2, 4, 8, 16, 32, 64 кг соответственно.



Пирамида - квадратная таблица размером $N \times N$, в ячейках которой записаны целые числа.

Плюс как размер пирамиды зависит от количества строк \Rightarrow необходимо последовательно проверить все ячейки пирамиды, записывая в каждую строчку и столбец

последнего ненулевого числа (переносить, если

координаты ненулевого числа, встречающегося по маршруту). Выпишем числа ячеек в порядке прохождения по пирамиде при $N = 5$:

- (0;3), (1;4), (0;2), (1;3), (2;4), (0;1), (1;2), (2;3), (3;4), (0;0), (1;1), (2;2), (3;3), (4;4), (1;0), (2;1), (3;2), (4;3), (2;0), (3;1), (4;2), (3;0), (4;1),



ВНИМАНИЕ! Проверяется только то, что записано с этой стороны листа в рамке справа

Заметим, что до прохождения по главной диагонали от $(0;0)$ до $(4;4)$, клетка $(0;3)$, и другие клетки увеличиваются до $N-1$, пока один из индексов не станет равен 4 ; тогда индекс становится отрицательным $(0;2)$.
 После прохождения по главной диагонали отрицательными образуются от $(4;0)$ индекс строки увеличивается до $(3;0)$.

Алгоритм (используем матрицу a размерами $N \cdot N$):

$pol = 0$

~~$ans_i = 0$~~

~~$ans_j = 0$~~

(проход по главной диагонали, в обе стороны)
и по главной диагонали

for $dia; \text{от } N-2 \text{ до } 0$ включительно:

$i = 0$

while $a[i][j] > 0$ or $i < 0$: $pol = a[i][j]$

~~$ans_i = i$~~
 ~~$ans_j = j$~~

$os = 1$

while $i + os < N$ and $j + os < N$:

while $a[i+os][j+os] > 0$ or $i+os < 0$: $pol = a[i+os][j+os]$

~~$ans_i = i+os$~~
 ~~$ans_j = j+os$~~

~~$ans_i = i+os$~~
 ~~$ans_j = j+os$~~

$os = os + 1$

for

for $dia; \text{от } 1 \text{ до } N-1$ включительно:

$j = 0$

while $a[i][j] > 0$ or $j < 0$: $pol = a[i][j]$

~~$ans_i = i$~~
 ~~$ans_j = j$~~

$os = 1$

while $i + os < N$ and $j + os < N$:

while $a[i+os][j+os] > 0$ or $i+os < 0$: $pol = a[i+os][j+os]$

~~$ans_i = i+os$~~
 ~~$ans_j = j+os$~~

$os = os + 1$

(проход по главной диагонали, в обе стороны)

for

вывод ans_i, ans_j

конф.



Олимпиада школьников «Надежда энергетики»

МЭИ, г. Москва
Место проведения

МЯ 64-14
шифр

← Не заполнять
Заполняется
ответственным
работником

Вариант № 73111

ФАМИЛИЯ Курерин

ИМЯ Георгий

ОТЧЕСТВО Дмитриевич

Дата рождения 10.05.2002.

Класс: 11

Предмет информатика

Этап: заключительный

Работа выполнена на 9 листах

Дата выполнения работы: 16.02.2020
(число, месяц, год)

Подпись участника олимпиады: Курерин

Впишите свою фамилию имя и отчество печатными буквами, дату рождения, класс, название предмета, этапа Олимпиады, общее количество листов, на которых выполнена работа и дату выполнения работы.



ВНИМАНИЕ! Проверяется только то, что записано с этой стороны листа в рамке справа

21.

Черт в ферми имеет ряды принимают только два значения. либо они оба непрерывны, либо оба непрерывны. значит, чтобы определить состояние черт в ферми ряду, необходимо на одну из черт ферми ряда поставить датчик. Если в момент определения уровня ферми датчик оказался не показывающий, то черта непрерывна, значит это знак \downarrow . Иначе для однозначного определения символа необходимо пользоваться датчиком \uparrow .

Покажем, что 1 датчик \uparrow поставив недостаточно. Если мы поставим датчик в левый ~~нижний~~ угол, то ~~в момент~~ будет две ситуации. Если датчик не горит показывающий, то символ непрерывен, то может быть символ \downarrow или \uparrow , только с двумя датчиками однозначно не смонтируем.

Если мы поставим датчик в правый нижний угол, то у нас опять возникает ситуация, когда мы не сможем точно определить символ. это



ВНИМАНИЕ! Проверяется только то, что записано с этой стороны листа в рамке справа

Пример:

Покажем, что трёх датчиков для решения задачи достаточно. Но как уже было сказано ранее, один датчик мы ставим на одну из краевых углов для определения позиции знаков сверху, а другой — снизу. Покажем, что с 3-ми датчиками можно однозначно определить букву, ~~выбрав ее сверху.~~ (знак

? далее обозначается 0, что пометить пером или не значим)

$\begin{array}{|c|} \hline \cdot \\ \hline \cdot \\ \hline \end{array} \begin{array}{|c|} \hline ? \\ \hline \cdot \\ \hline \end{array} \rightarrow \text{такой ситуации нет}$

Если сверху датчик показывает, что пером не проергана, это тоже знак $\begin{array}{|c|} \hline \cdot \\ \hline \cdot \\ \hline \end{array} \begin{array}{|c|} \hline \cdot \\ \hline \cdot \\ \hline \end{array}$. Если ~~даже~~ ^{если} снизу оба датчика непрерывны, то это сигнал $\begin{array}{|c|} \hline \cdot \\ \hline \cdot \\ \hline \end{array} \begin{array}{|c|} \hline \cdot \\ \hline \cdot \\ \hline \end{array}$. Если проергана только один из датчиков — это сигнал $\begin{array}{|c|} \hline \cdot \\ \hline \cdot \\ \hline \end{array} \begin{array}{|c|} \hline \cdot \\ \hline \cdot \\ \hline \end{array}$. Если проерганы оба, это сигнал $\begin{array}{|c|} \hline \cdot \\ \hline \cdot \\ \hline \end{array} \begin{array}{|c|} \hline \cdot \\ \hline \cdot \\ \hline \end{array}$. Таким образом, знаки полностью определены.

Ответ: 3 датчика.





~ 5.

Описание алгоритма.

Разобьем алгоритм на две части. Первая из них - это обход графа до точки (N, N) (сначала нумерацию $\in \mathbb{Z}$). При этом обходе если графа хода $\in \mathbb{Z}$.

Наши абсциссы горизонтальной координаты уменьшаются на 1, а вертикальная координата растет на 1. Второй шаг "шаг ~~кратка~~ ходов" - \rightarrow гориз. координата растет, а вертикальная уменьшается на 1.

После того, как мы выйдем точку (N, N) , то у нас также есть графа хода. Первый - гориз. координата растет на 1, а вертикальная уменьшается на 1 (до N). Второй шаг - горизонтальная координата уменьшается на 1, а вертикальная растет на N .

На каждом шаге мы ориентируем шара и прокручиваем попутителное на око. Если да - сохраняем координаты.

алг Парсу

Нач

цел ~~текущая~~ текущТор, Те текущ Вер, отвТор,

отв Вер, n, k

~~отв отв текущТор =~~
~~неча~~

ввод n

текущТор = n

текущ Вер = 1

ВНИМАНИЕ! Проверяется только то, что записано с этой стороны листа в рамке справа



ВНИМАНИЕ! Проверяется только то, что записано с этой стороны листа в рамке справа

пока ~~1~~ текущ Top ~~1~~
ну

~~(~~→ - закон, не надо~~
идём до конца (1; 1)~~)

while k

(случай 1)

если k > 0 то

ост Top = текущ Top

ост Вер = ~~текущ Вер~~ 1

кē

текущ Top = текущ Top - 1
текущ Вер = текущ Вер + 1
while k

если k > 0 то

(к случай 2)

ост Top = n

ост Вер = текущ Вер

кē

кy

while k

если k > 0

если k > 0 то

ост Top = 1

ост Вер = 1

кē

если while k

если k > 0 то

ост Top = N

ост Вер = N

кē

~~while~~ while k

если k > 0 то

ост Top = 1

ост Вер = 2

~~(далее обрабатываем точки (1; 1) и (N; N))~~

далее обрабатываем точки (1; 1) и (N; N)
и (1; 2) - переходим

(+)

~~(обрабатываем переход от (1; 1) до (N; 1; N))~~



ВНИМАНИЕ! Проверяется только то, что записано с этой стороны листа в рамке справа

~~начи~~ ~~текущ~~ ~~Top~~ = 1 ~~кi~~
~~текущ~~ ~~Вер~~ = 2 ~~текущ~~ ~~Top~~ = N - 1
~~нока~~ (~~текущ~~ ~~Top~~) ~~нока~~ (~~текущ~~ ~~Top~~ < > 2) *
 ну
 блок

если ~~k~~ k > 0 то
 отв Top = текущ Top
 отв Вер = N

~~кi~~
 текущ Top = текущ Top - 1
 текущ Вер = ~~Теку~~ текущ Вер + 1
 блок k

если k > 0 то
 отв Top = 1
 отв Вер = текущ Вер

~~кi~~
 ну.
 (Наша задача обратная гла. пострани
 значений: (2; N) и (1; N))
 блок k

если k > 0 то
 отв Top = 2
 отв Вер = N

~~кi~~
 блок k
 если k > 0 то



ВНИМАНИЕ! Проверяется только то, что записано с этой стороны листа в рамке справа

$об\topор = 1$
 $об\bottomер = N$

кѐ

каког об\topор, об\bottomер
коней

~2.

Т.к. требуется сложность $O(N^2)$, достаточно отсортировать
кажд массив, а затем найти в нем к-е по возрастанию
передняя i -я отсортировано массиве.

алг возрастание

наз

цел $N, a, b, c, j, t \in [100\ 000]$, целых k

~~for N~~
for k от 1 до N
где i от 1 до $a[i]$

кѐ

где i от 1 до $N-1$ (сортировка пузырьком)
где j от 1 до $N-i+1$?

если $a[i] > a[j]$ то

$t = a[i]$

$a[i] = a[j]$

$a[j] = t$

кѐ

кѐ

кѐ



Внимание! Далее подразумевается
что к-е по возрастанию число а\bottomер
возрастает, например в массиве 1, 1, 2, 2 где по



ВНИМАНИЕ! Проверяется только то, что записано с этой стороны листа в рамке справа

^{объём}
длина от 1 до N
ну

если $a[i-1] < a[i]$ то
 $count = count + 1$

если $count = k$ то
 $ans = a[k]$

конеч (конеч-анализ heap)

конец

конеч

конеч ans

конец

нз.

Будем хранить данные о брешках в сбалансированном массиве. Если для каждой абсциссы сохраняем количество брешек с этой абсциссой. Для нахождения ответа найдем максимум в этом массиве. Число же хранения больше числа брешек (к началу возмужает 1:1)

начало

чел $a[100000]$, ~~не забудь~~ x, y, z
 n, i, x, y , макс ans , ans
ход n
ход x, y, z
длина от 1 до N ну
ход x, y



ВНИМАНИЕ! Проверяется только то, что записано с этой стороны листа в рамке справа

$$a \left[1 + \frac{(x - x_{\max})}{x_{\max}} \right] = a \left[1 + \frac{(x - x_{\max})}{x_{\max}} \right] + 1$$
 если $x > x_{\max}$ то $x_{\max} = x - x_{\max} + 1$

ну
 от 1 от 2 до макс АБС
 если $a[i] > 0$ то
 $a[i] = a[i]$
 ну



ну
 какой об
 коней

~4

Заметим, что любое натуральное число можно
 представить в виде суммы ^{целых} чисел в троичной системе
 счисления, состоящих из цифр 0 и 1. Поэтому
 для того, что известно про все от 1 до 120 кг, нам
 понадобятся шарики с весами $3^1, 3^2, 3^3, 3^4$ (шарик
 весом 3^4 кг будет недостаточен, или нетно отмерить
 максимум $3 + 3^1 + 3^2 + 3^3$. Трёх шаров будет недостаточно, так
 как ими можно отмерить максимум $27 + 9 + 3 = 39$ кг.)
 Четырех же шаров можно максимум отмерить
 $81 + 27 + 9 + 3 = 120$ кг, как раз хватает. Если шаров (вес
 макс. шаров 243 - избыточно). Поэтому:
~~Отец шаров: 3, 9, 27~~



ВНИМАНИЕ! Проверяется только то, что записано с этой стороны листа в рамке справа

$1, 3, 3^0, 3^1, 3^2, 3^3, 3^4$). Набор комплекта чашек $(3^0, 3^1, 3^2, 3^3)$ недостаточен, так как чашки можно отмерить максимум $27 + 9 + 3 + 1 = 40$ кг. В это время, чашка с массой $3^5 = 243$ кг отсутствует; максимум комплекта из 5 чашек можно отмерить $81 + 27 + 9 + 3 + 1 = 121$ кг.
Правильный ответ: 5 чашек, веса $1, 3, 9, 27, 81$ кг.



Олимпиада школьников «Надежда энергетики»

МЭИ г. Москва

Место проведения

ИЯ 67-84

шифр

← Не заполнять
Заполняется
ответственным
работником

Вариант № 73111

ФАМИЛИЯ ЛЕВИЦКИЙ

ИМЯ ДАНИИЛ

ОТЧЕСТВО РОМАНОВИЧ

Дата рождения 07.07.2002

Класс: 11

Предмет ИНФОРМАТИКА

Этап: ЗАКЛЮЧИТЕЛЬНЫЙ

Работа выполнена на 5 листах

Дата выполнения работы: 16.02.2020
(число, месяц, год)

Подпись участника олимпиады: 


Впишите свою фамилию имя и отчество печатными буквами, дату рождения, класс, название предмета, этапа Олимпиады, общее количество листов, на которых выполнена работа и дату выполнения работы.



ВНИМАНИЕ! Проверяется только то, что записано с этой стороны листа в рамке справа

Задача N1

Чтобы узнать, сколько датчиков (минимально) необходимо поставить, будем пошагово отсоединять черточки в буквах, исчезновение которых не будет нарушать разницу в символах.




Во-первых, заметим, что во всех символах левая черта нарисована. Значит, мы так же можем её не считывать. Перерисуем алгоритм ~~не~~ обращая на неё внимание:



Если попытаться «убрать» одну из верхних черточек, символы все ещё будут различимы:

ПРИМЕР 1



ПРИМЕР 2



~~Вывод~~ Значит, ~~одну~~ ^{одну} из этих черточек можно не подвергать идентификации.

Так же мы можем ~~и~~ убрать и левую нижнюю черту (алгоритм не пострадает)



Но дальнейшие попытки убрать черточки приведут к неразличимости символов. Значит, бояре должны добыть 3 датчика (для верхней-правой либо верхней левой, для правой и для правой-нижней черточек)





ВНИМАНИЕ! Проверяется только то, что записано с этой стороны листа в рамке справа

Задача №2

Представив колонку в виде массива размером N , отсортирую ее «пузырьковым» методом, сложность которого как раз сравнима с N^2 . Затем выведу элемент массива с индексом K .

Переменные:

массив $a[N]$ целые $K, temp$ для i от 1 до N : $Ввод(a[i])$ $Ввод(K)$ Если $K \leq 0$ или $K > N$:

Вывести (некорректный ввод)

Иначе:

 для i от 1 до N : для j от 1 до $N-i$: если $a[j] > a[j+1]$ то: $temp = a[j+1]$ $a[j+1] = a[j]$ $a[j] = temp$ ~~конец «если»~~ ~~конец «для»~~ ~~конец «для»~~ Вывести($a[K]$)



ВНИМАНИЕ! Проверяется только то, что записано с этой стороны листа в рамке справа

Задача №3

Представим ущелье как матрицу $N \times n$, где N - длина ущелья.

Бревна в данной матрице будут представлены в виде единиц (если бревна нет, значение элемента равно нулю). Причем единицы начинают встречаться в матрице только с k -той строки (участка). ?

Необходимо узнать индекс строки, в которой содержится больше всего единиц. Для этого заведем переменные max , куда будем записывать кол-во единиц и max_index , где будет храниться номер участка с макс. кол-вом бревен

Переменные:

~~массив~~ целые $N, n, max, max_index, k, counter$
матрица $a[N; n]$

для

Ввод(k)

$max_index = 0$

$max = 0$

для i от k до N :

$counter = 0$

 для j от 1 до n :

 если

$a[i; j] = 1$:

$counter = counter + 1$

 если $counter > max$:

$max = counter$

$max_index = i$

Вывести (max_index)



ВНИМАНИЕ! Проверяется только то, что записано с этой стороны листа в рамке справа

Задача 4

Рассмотрим сперва $Q=40$ т.к. у нас всего 4 груза, должно выполняться неравенство: $x_1 + x_2 + x_3 + x_4 \geq 40$

Попробуем найти веса этих грузов следующим образом:

начиная с 1кг будем моделировать равновесие на весах.

Когда грузиков станет нехватать, будем ~~добавлять~~ представлять следующую переменную как макс. возможный вес.

$$Q=1 \quad \begin{array}{l} \textcircled{1} \quad | \quad \underline{1} \\ \textcircled{2} +1 | \underline{3} \\ \textcircled{3} \quad | \quad 3 \\ \textcircled{4} \quad | \quad 3+1 \\ \textcircled{5} +1+3 | \underline{9} \end{array}$$

$x_1=1 \quad x_2=3 \quad x_3=9$

⇒ Отсюда заметим, что веса ^{гирь} грузиков изменяются как степени тройки. То есть $x_4=27$. Действительно,

данные веса позволяют взвесить любой груз в диапазоне от 1 до 40, причем условие $x_1 + x_2 + x_3 + x_4 \geq 40$ выполняется.

Следуя данной логике, для $Q=120$ кг понадобится ^{гиря} груз x_5 , который будет равен 81. (Меньше грузов взять нельзя т.к. тогда не будет соблюдаться условие, что веса всех гирь ≥ 120)

ОТВЕТ: число гирь = 5 ; ^{веса гирь:} 1, 3, 9, 27, 81



Задача 5

Создадим матрицу и по мере ее обхода будем ~~записывать~~ элементы в массив размера $N \times N$. Затем пройдем по нему от конца до начала, пока не встретится положительный элемент. Определять положит. элементы и записывать их в ~~отде~~ координаты в отдельную переменную.



ВНИМАНИЕ! Проверяется только то, что записано с этой стороны листа в рамке справа

Задача 5 (~~продолжение~~) (продолжение)

Переменные:

матрица $matrix[N;N]$

~~массив $a[N*N]$~~

целые $i, x, y, ~~count~~ plusx, plusy$

$plusx = 0$

$plusy = 0$

для i от 1 до $\lfloor \frac{N}{2} \rfloor$: # первая половина таблицы

 для x от $\lfloor \frac{N-i+1}{2} \rfloor$ до N :

 для y от 1 до i :

 если $matrix[x; y] > 0$:

~~$plus = matrix[x; y]$~~

$plusx = x$

$plusy = y$

для i от 1 до N : # вторая половина

 для x от 1 до $N-i$:

 для y от $1+i$ до N :

 ⊗

 если $matrix[x; y] > 0$:

~~$plus = matrix[x; y]$~~

$plusx = x$

$plusy = y$

если $plus = 0$:

 Вывод (нет положительных)

иначе

если $plusx$ и $plusy = 0$:

 Вывод (нет положительных)

иначе:

 Вывод ($plusx$)

 Вывод ($plusy$)



Олимпиада школьников «Надежда энергетики»

СОШ №20,
г. Новогебюксарск

Место проведения

PN 69-59

шифр

← Не заполнять
Заполняется
ответственным
работником

Вариант № 73101

ФАМИЛИЯ Лукин

ИМЯ Максим

ОТЧЕСТВО Сергеевич

Дата рождения 17.05.2003

Класс: 10

Предмет информатика

Этап: заключительный

Работа выполнена на 3 листах

Дата выполнения работы: 16.02.20
(число, месяц, год)

Подпись участника олимпиады:

Лукин

Впишите свою фамилию имя и отчество печатными буквами, дату рождения, класс, название предмета, этапа Олимпиады, общее количество листов, на которых выполнена работа и дату выполнения работы.




№1.

Если боеве добудут 1 датчик, то невозможно будет отличить 4 знака, возможно будет отличить только 2 (1: либо датчик горит; 2: либо датчик не горит).

Если боеве добудут 2 датчика, то возможно будет определить 4 знака: 1) ни один не горит; 2) горит только первый; 3) горит только второй; 4) горит оба.

Приведу пример (— — есть датчик; --- — нет датчика)



1: Если не горит ни один датчик, это знак

2: Если горит только первый датчик, это знак

3: Если горит только второй датчик, это знак

4: Если горят оба датчика, это знак

Ответ: для работы необходимо 2 датчика.

№2.

Чтобы вес удовлетворял условиям: следующее число должно быть на 1 больше удвоенной суммы всех чисел из той же группы чисел. Для того мы не сможем получить один вес 2 раз. Этому условию удовлетворяют три веса 1, 3, 9, 27.

$$3 = 1 \cdot 2 + 1; \quad 9 = (1+3) \cdot 2 + 1; \quad 27 = (1+3+9) \cdot 2 + 1.$$

Докажу, что с их помощью можно получить любой вес (в целом числе кг) от 1 до 40.

1: 1	6: 9-3	11: 9+3-1	16: 27-9-3+1	21: 27-9+3	26: 27-1	31: 27+3+1	36: 27+9
2: 3-1	7: 9-3+1	12: 9+3	17: 27-9-1	22: 27-9-3+1	27: 27	32: 27+9-3+1	37: 27+9+1
3: 3	8: 9-1	13: 9+3+1	18: 27-9	23: 27-3-1	28: 27+1	33: 27+9-3	38: 27+9+3-1
4: 3+1	9: 9	14: 27-9-3-1	19: 27-9+1	24: 27-3	29: 27+3+1	34: 27+9-3+1	39: 27+9+3
5: 9-3-1	10: 9+1	15: 27-9-3	20: 27-9-3-1	25: 27-3+1	30: 27+3	35: 27+9-1	40: 27+9+3+1

С помощью 4 шир немо получить число > 40 , т.к. $27+9+3+1 = 40 \Rightarrow$ нужна 5 шир минимально: вес 5-ой шир = $(1+3+9+27) \cdot 2 + 1 = 81$.

С помощью вычитаний из 81, можно получить любое целое число от 41 до 80, т.к. мы можем получить любое целое число от 1 до 4. Путем сложения вы с ширей весом 81 \rightarrow от 1 до 9 кг получим веса от 82 до 90. (Чтобы получить 81 достаточно 1 ширей весом 81).



ВНИМАНИЕ! Проверяется только то, что записано с этой стороны листа в рамке справа

Итак, с помощью 5 шурь весами 1 кг, 3 кг, 9 кг, 27 кг и 81 кг
 можем получить все веса от 1 до 121 кг ($1+3+9+27+81=121$ кг)
 $121 \text{ кг} > W = 90 \text{ кг} \Rightarrow$ условие выполняется.

ответ: минимальное число шурь = 5. (1 кг; 3 кг; 9 кг; 27 кг и 81 кг)

N°3

```

1  for(int i; i<=n; i++)
2  {
3      if (i%2 == 0)
4      {
5          for(int j=1; j<=n; j++)
6          {
7              if (a[i][j] >= d && a[i][j] <= s)
8              {
9                  cout << i << " " << j;
10                 return 0;
11             }
12         }
13     }
14     if (i%2 == 0)
15     {
16         for(int j=n; j>=1; j--)
17         {
18             if (a[i][j] >= d && a[i][j] <= s)
19             {
20                 cout << i << " " << j;
21                 return 0;
22             }
23         }
24     }
25 }
  
```

Алгоритм проур
 $n > 0$ $\log?$
 d < s



Пояснение 1-25 циклы, проходящий по всей матрице.

- 3: проверяем номер строки на четность;
- 4-13: циклы, работающий, если номер строки четный;
- 5: циклы, проходящий по строке слева направо (от 1 до N элемента)
- 7: проверяем число в матрице на принадлежность к отрезку $[d; S]$.
- 9: если число принадлежит отрезку, выводим номера строки и столбца
- 10: _____ 11 _____, заканчиваем программу.
- 14: проверяем номер строки на четность
- 15-24: циклы, работающий, если номер строки четный;
- 16+: циклы, проходящий по строке справа налево (от N до 1 элемента)
- 18: проверяем число в матрице на принадлежность к отрезку $[d; S]$
- 20: если число принадлежит отрезку, выводим номер строки и столбца
- 21: _____ 11 _____, заканчиваем программу.

Выше приведен только алгоритм поиска нужного числа, перед которым [алгоритмом], разумеется, нужно число объявить переменной.

Ответ: алгоритм описанный выше



ВНИМАНИЕ! Проверяется только то, что записано с этой стороны листа в рамке справа

N^o4

1.) Общая формула для степеней с номером N.

$$S_N = -(-1)^n \cdot \frac{x^{2n-1}}{N}$$

$x^{2n-1} \rightarrow x$ в степени, которая с каждым шагом увеличивается на 2.
 $N \rightarrow$ это в знаменателе, равное номеру элемента.

$-(-1)^n$, если n нечетное, то $(-1)^n \rightarrow$ ~~положительное~~ отрицательное $= -1$, тогда $-(-1) = 1$, что и требуется: $(+S_N)$.

— если n четное, то $(-1)^n \rightarrow$ положительное $= 1$, тогда $-(-1) = -1$, что и требуется $(-S_N)$.

2.) Формула из условия $S_{N+1} = -x^2 \cdot \frac{N}{N+1} \cdot S_N$

Кол-во арифметических операций:

1) $N+1$; 2) $\frac{N}{N+1}$; 3) x^2 ; 4) $-x^2$; 5) $-x^2 \cdot \frac{N}{N+1}$; 6) $-x^2 \cdot \frac{N}{N+1} \cdot S_N$

Кол-во арифметических операций в исходной формуле:

1) $2n$; 2) $2n-1$; 3) x^{2n-1} ; 4) $\frac{x^{2n-1}}{N}$; 5) $(-1)^n$; 6) $-(-1)^n$; 7) $-(-1)^n \cdot \frac{x^{2n-1}}{N}$

В исходной формуле на одну арифметическую операцию больше, однако ее преимущество в том, что достаточно знать только номер элемента (N); в формуле из условия необходимо также знать элемент S_{N-1} .

Ответ: 1) $-(-1)^n \cdot \frac{x^{2n-1}}{N}$; 2) кол-во операций в исходной формуле (7), больше кол-во операций в формуле из условия (6).

N^o5.Множество $Z_m = [0, 1, 2, \dots, m-1] \rightarrow$ все возможные остатки от деления на m.1) Найдем D. $D = b^2 - 4 \cdot a \cdot c$.2) Проверим D на (Если $D \geq 0$ продолжим, если $D < 0 \rightarrow$ код не подходит)3) Если $D \geq 0$ найдем корни уравнения: $x_{1,2} = \frac{-b \pm \sqrt{D}}{2a}$

Итак: код является решением, если D — является ~~кодом~~ квадратом целого числа, если $-b \pm \sqrt{D}$ или $-b - \sqrt{D}$ делится на $2a$ без остатка (хотя бы одно). Если оба условия соблюдены, проверяем корни, которые подошли под оба условия. Если данный корень не меньше 0 и меньше m, то число для этого является решением кода.

Ответ: алгоритм, описанный выше.

Олимпиада школьников «Надежда энергетики»

МЭИ город Москва

Место проведения

НЯ 64-58

шифр

← Не заполнять
Заполняется
ответственным
работником

Вариант № 73111

ФАМИЛИЯ СЕРГЕЕВ

ИМЯ ИЛЬЯ

ОТЧЕСТВО ИВАНОВИЧ

Дата рождения 22.08.2002

Класс: 11

Предмет ИНФОРМАТИКА

Этап: ЗАКЛЮЧИТЕЛЬНЫЙ

Работа выполнена на 5 листах

Дата выполнения работы: 16.02.2020
(число, месяц, год)

Подпись участника олимпиады:

С

Впишите свою фамилию имя и отчество печатными буквами, дату рождения, класс, название предмета, этапа Олимпиады, общее количество листов, на которых выполнена работа и дату выполнения работы.



ВНИМАНИЕ! Проверяется только то, что записано с этой стороны листа в рамке справа

№1: Види знаков:

— — | — — | — — | — —

Заметим, что у каждого знака есть левая вертикальная черта (1). Из этого следует то, что датчик для неё не нужен.

Предположим, что минимальное ^{требуемое} кол-во датчиков равно двум. Тогда ~~первый~~ датчик должен проверять наличие черты, которая имеется лишь у половины символов, а второй должен проверять наличие черты, которая имеется у половины символов, отобранных первым датчиком. Т.е. проверив наличие одной черты, мы датчик уменьшаем количество символов, которыми может быть раскодирован символ до двух, а затем по одной оставшейся черте попытаемся узнать, какой же знак мы пытаемся опознать.

Обозначим черты: $\sigma \left(\begin{array}{c|c} 1 & 2 \\ \hline 3 & 4 \end{array} \right) \rho$.

Черта 3 есть лишь у половины знаков, больше таких черт нету. У тех знаков, у которых нет черт 3 общей (той, которая есть у обоих) не явл. черта 4 (и только она). А у тех, у которых черта 3 есть, общей не явл. черт 1 и 2. => мы не можем поставить второй датчик так, чтобы он помог определить знак в обоих случаях.

Также очевидно, что одним датчиком невозможно обойтись, т.к. для каждой черты есть всего два варианта: она присутствует, или нет. Итого А знаков у нас 4.

=> Минимальное кол-во датчиков = 3 (прим: датчики для черт 3, 4 и 2)



ВНИМАНИЕ! Проверяется только то, что записано с этой стороны листа в рамке справа

к заданию 4: Ответ: 3 \oplus

№2: Опишу алгоритм на естественном языке:

1. Считаем (узнаем N и K)

2. Отсортируем числа по возрастанию

3. Выведем K -ое число.

Тема

В таком случае, если мы используем в пункте 2 сортировку выбором, то суммарное кол-во операций будет $\approx N \cdot \log_2 N$.

Но нам нужно кол-во операций "перебора", поэтому в пункте 2 используем сортировку выбором.

Пояснение: сортировка выбором совершает N шагов и на каждом шаге выбирается минимальное число из последних $N-i+1$ чисел, где i - номер шага, шаг i с единицы.

В конце каждого шага минимальное число переставляют местами с числом под номером i .

Т.к. для на каждом шаге алгоритм просматривает $N-i+1$ чисел, то асимптотически кол-во совершаемых операций $\approx N^2$. \oplus

№5: Опишу алгоритм на естественном языке:

1. Введём (узнаем) N чисел

2. Будем двигаться по диагоналям и запоминать номера столбца и строки, в которых был последний положительный ≥ 1 -т.

Если встречаем при дв-м положительный ≥ 1 -т, то перезаписываем ≥ 1 -т номер.

~~Итого~~



ВНИМАНИЕ! Проверяется только то, что записано
с этой стороны листа в рамке справа

№4: Используем то, что мы знаем, как можно взвесить груз от 1 до 40 килограмм с ч.м. гири.

Ведь от 1 до 40 кг мы бы могли взвесить $\frac{1+40}{2} = 20,5$ кг. Попробуем улучшить ответ. Мы можем дополнительно использовать еще

Применение по условию: в условии сказано, что требуется взвесить груз в 120 кг. Т.е. если воспользоваться задачей наиряднее, достаточно будет одной гири в 120 кг. для этого. Т.е. ответ в таком случае: 1 гиря - 120 кг

Если же имеется в виду то, что требуется уметь взвешивать любой груз от 1 до 120 кг, то достаточно будет добавить две гири по 40 кг. Тогда, если вес > 40 кг, то мы добавим на чашку весов без груза гири в 40 кг, и продолжим всё те же операции, как если бы мы взвешивали $Q - 40$ кг. Если же и тогда не хватает гири и чашка весов с Q будет перевешивать, добавим на чашку без груза еще одну гири в 40 кг, и продолжим всё то же, что мы делаем, когда взвешиваем груз от 1 до 40 кг. (т.к. текущий вес груза будет > 80 ~~и~~ < 120 , то $Q - 80 \in [1; 40]$ и мы можем так сделать).

Можно заметить, что с гири 2, 5, 10 и 20 кг можно будет взвешивать любой груз от 1 до 20 кг.

+

Ответ: 6 гири \neq 2, 5, 10, 20, 40, 40 кг.

Олимпиада школьников «Надежда энергетики»

МЭИ город Москва.

Место проведения

BS 88-24

шифр

← Не заполнять
Заполняется
ответственным
работником

Вариант № 43101

ФАМИЛИЯ СКЛЯРЕНКО

ИМЯ ЕВГЕНИЙ

ОТЧЕСТВО АНАТОЛЬЕВИЧ

Дата рождения 08.11.2003

Класс: 10

Предмет ИНФОРМАТИКА

Этап: ЗАКЛЮЧИТЕЛЬНЫЙ

Работа выполнена на 4 листах

Дата выполнения работы: 16.02.20
(число, месяц, год)

Подпись участника олимпиады:



Впишите свою фамилию имя и отчество печатными буквами, дату рождения, класс, название предмета, этапа Олимпиады, общее количество листов, на которых выполнена работа и дату выполнения работы.



ВНИМАНИЕ! Проверяется только то, что записано с этой стороны листа в рамке справа

№3
Есть sp -массив размера N ,
но:

$i=0$
 $flag = False$
 $while i < n:$

$n = N?$

$N > 0$
 $d \leq 5?$

$while j = 0 \text{ to } n-1$
 $if (sp[i][j] \leq 5 \text{ and } sp[i][j] \geq d)$, then
 $flag = True$
 $ind1 = i$
 $ind2 = j$
"выход из внутреннего цикла" (break)



$if (flag == True)$ then
"выход из внешнего цикла" (break)

until $i = n$, then
"выход из внешнего цикла" (break)

$while j = n-1 \text{ to } 0$
 $if (sp[i][j] \leq 5 \text{ and } sp[i][j] \geq d)$, then
 $flag = True$

$ind1 = i$
 $ind2 = j - n + 1$ - "м.к. на м.к. или м.к. на м.к."
"выход из внутреннего цикла" (break)

$if (flag == True)$ then
"выход из внешнего цикла" (break)

until $i = 1$

Выводим $ind1$ и $ind2$.

Объяснил алгоритм:

$flag$ - переменная, используемая для проверки, нашли ли мы уже нужный элемент. (символ строки массива i в 0 индексах?)

Цикл $while$ от $j = 0$ до $j = n-1$ и/или слева направо, поэтому обмен i и j элементов, найденных в таком цикле - (i, j)

Цикл от $j = n-1$ до $j = 0$ и/или справа налево (перебираем строки массива в обратном порядке), поэтому обмен i и j элементов, найденных в таком цикле равен $(i, j - n + 1)$

Программа гарантирует, что найден элемент в массиве можно вывести, иначе выведет ошибку



ВНИМАНИЕ! Проверяется только то, что записано с этой стороны листа в рамке справа

$$S(x) = x - \frac{x^3}{2} + \frac{x^5}{3} - \frac{x^7}{4} + \dots$$

$$1) S(x)_N = (-1)^{N/2-1} \cdot \frac{x^{2N-1}}{N} \quad \text{когда}$$

второй элемент равен: $(-1)^1 \cdot \frac{x^3}{2} = -\frac{x^3}{2}$

пятым: $(-1)^2 \cdot \frac{x^5}{3} = \frac{x^5}{3}$

девятым: $(-1)^3 \cdot \frac{x^7}{4} = -\frac{x^7}{4}$

первым: $(-1)^0 \cdot \frac{x^1}{1} = \frac{x^1}{1}$ Ответ: $(-1)^{N/2-1} \cdot \frac{x^{2N-1}}{N}$

$$2) \text{ Формула } S_N \text{ формула } (-1)^{N/2-1} \cdot \frac{x^{2N-1}}{N} \text{ имеет}$$

одну асимптоту $O(2N-1)$, т.к. x^{2N-1} находиме за $2N-1$ операций, остальные операции находиме за $O(1)$

формула $\frac{S_{N+1}}{S_N} = -x^2 \cdot \frac{N}{N+1}$ имеет одну асимптоту $O(N+1)$, т.к. сумма S_{N+1} находиме за $(N+1)$, а мы сохраняем все что-то в предыдущие вычисления, то сумма S_N уже будет вычислена, когда мы найдем S_{N+1} , (можно использовать программирование). ⊕

Значит в формуле из условия (пункт 2) количество затрачиваемых операций меньше.

Дополнительные пояснения к алгоритму задания 3:

- 1) Цикл пока (пока; < n;) идёт до последней строки матрицы, а затем прекращается.
- 2) Проверка внутри цикла "пока" (если i == n) нужна чтобы, если количество строк матрицы нечётно и мы перейдем к n-ой строке матрицы, то выполним первого цикла "от" внутри цикла "пока".
- 3) Операция "break" нужна для прекращения работы цикла, выходя из него.
- 4) Если в матрице не будет элемента, удовлетворяющего условию, то элементы i+1 и i+2 не будут использоваться и программа выдает ошибку, (недопустимо, что такой элемент существует в матрице).



ВНИМАНИЕ! Проверяется только то, что записано с этой стороны листа в рамке справа

Уравнение $ax^2 + bx + c = 0$, если $a \neq 0$ имеет два решения:

$$\begin{cases} x_1 = \frac{-b + \sqrt{b^2 - 4ac}}{2a} \\ x_2 = \frac{-b - \sqrt{b^2 - 4ac}}{2a} \end{cases}$$

Проверим решение x хотя бы одним из этих корней в отрезке от $[1; 1]$ до $m-1: [1; m-1]$. Если да, то ~~задача~~ ^{кажд} ~~найдём~~ ^{найдём} решение, если нет, то ~~нет~~ ^{найдём} ~~найдём~~ ^{найдём} решение.

Если же $a = 0$, то уравнение принимает вид $bx + c = 0$

Решение одно $x = -\frac{c}{b}$



Если $-\frac{c}{b}$ входит в отрезок $[1; m-1]$, то ~~кажд~~ ^{кажд} ~~найдём~~ ^{найдём} ~~найдём~~ ^{найдём} решение, если нет, то ~~нет~~ ^{найдём} ~~найдём~~ ^{найдём} решение.

№2.

Взвеш, например, при $2 | 5 | 15 | 45$ мы можем взвесить любой груз до ~~50 кг~~ ^{45+15+5+2 = 67} кг

1) Возьмём при $2, 4, 5$ мы можем, используя только эти, взвесить все грузы в $[1; 7]$, пользуясь $(> < =)$

2) При $2, 4, 5$, все при до $7 [1; 7]$, также пользуясь только $(> < =)$ и т.д.

И так далее. Необходимо заметить, что таким образом мы можем взвесить ~~все грузы~~ ^{все грузы} до суммы всех использованных при.

Так как ~~каждый~~ ^{каждый} ~~при~~ ^{при} ~~используется~~ ^{используется} только для взвешивания грузов до ~~50 кг~~ ^{67 кг}, а наибольший из этих

при $= 45$, то следующий при ~~будет~~ ^{будет} ~~50 кг~~ ⁶⁷⁺⁴⁵ ~~используется~~ ^{используется} только для > 90 , значит, используя 5 при, мы можем взвесить любой

груз от $[1; 90]$. Любой груз: $2 | 5 | 15 | 45 | 135$ кг

Ответ: 5 при; $2 | 5 | 15 | 45 | 135$ кг.





ВНИМАНИЕ! Проверяется только то, что записано с этой стороны листа в рамке справа



№1

~~Вопрос~~ ~~Масса~~ ~~проверка~~ ~~в~~ ~~этом~~ ~~случае~~
 Визуально, что илм сивила повернута три верта:
 где верхняя и одну Соковой левую, — —, т.к. они
 присутствуют во всех символах.

~~Проверка~~ Одна гамма нам нужна, чтобы проверить
 есть ли верта на правой Соковой стороне.

~~Если да, то нам нужна гамма~~
 Визуально зависит от того, есть ли верта на правой
 Соковой стороне, нам нужна еще одна гамма на
 Соковой нижней стороне. Тогда алгоритм работы
 этих двух гамм по их различным местам символов
 таков: ~~есть ли верта на правой Соковой стороне~~
 I. Если да, то проверим, есть ли верта на

- 1) Если есть верта на правой Соковой стороне и
 есть верта на правой нижней стороне, то это символ
 2-ого типа.
- 2) Если есть верта на правой Соковой стороне и
 нет верты на нижней правой стороне, то это символ
 1-ого типа.
- 3) Если верты нет ни там ни там, то это символ
 4-ого типа.
- 4) Если верты нет на правой Соковой стороне, но
 она есть на нижней правой стороне, то это символ 3-его типа.



Олимпиада школьников «Надежда энергетики»

СФМЭИ

Место проведения

НС 45-12

шифр

← Не заполнять
Заполняется
ответственным
работником

Вариант № 73101

ФАМИЛИЯ Соколовская

ИМЯ Арина

ОТЧЕСТВО Владимировна

Дата рождения 13.09.2003

Класс: 10

Предмет Информатика

Этап: Заключительный

Работа выполнена на 3 листах

Дата выполнения работы: 18 февраля 2020
(число, месяц, год)

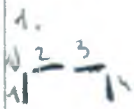
Подпись участника олимпиады:



Впишите свою фамилию имя и отчество печатными буквами, дату рождения, класс, название предмета, этапа Олимпиады, общее количество листов, на которых выполнена работа и дату выполнения работы.



ВНИМАНИЕ! Проверяется только то, что записано с этой стороны листа в рамке справа



1. Изначально датчики отсутствуют, значения для работы первого знака нам понадобятся и новых датчика.

2) $\overline{1} \overline{1}$ Для работы второго знака у нас уже есть и нужных датчика, значит нужно купить еще один.

3) $\overline{1} \overline{1} \overline{1}$ Для работы третьего знака есть и нужными датчика, то надо купить еще 1.

4) $\overline{1} \overline{1} \overline{1} \overline{1}$ Для работы четвертого знака есть все нужные датчики

то есть для работы системы нужно $4+1+1=6$ датчиков.

Ответ: 6 датчиков. \ominus

3. читаем N:

читаем матрицу;

zn $x = -1, y = -1;$

$N > 0$

for i = от 1 до N

если i нечетное, то

for j = от 1 до N

если $(a[i][j] \geq d$ и $a[i][j] \leq s)$, то

если $x \neq -1$, то $\begin{cases} x = i; \\ y = j; \end{cases}$

else

for j = N до 1

если $(a[i][j] \geq d$ и $a[i][j] \leq s)$, то

если $x \neq -1$, то $\begin{cases} x = i; \\ y = j; \end{cases}$

Вывести x, y;

end.





ВНИМАНИЕ! Проверяется только то, что записано с этой стороны листа в рамке справа

5. считаем $a, b, c, m; f=0;$

for $i = 0$ to $m-1$

если $(a+i \cdot i + b \cdot i + c = 0)$, то $[f=1, break;]$

Если $f=1$, то решение есть

иначе решения нет

и. 1) $a_n = \frac{x^{2n-1}}{n}$, если n - чётное, то делится на -1 .

2) 1. $\frac{S_{N+1}}{S_N} = -x^2 \cdot \frac{N}{N+1}$; 2. $a_N = \frac{x^{2N-1}}{N}$

В первой формуле понадобится \sqrt{N} операций, которые выполняются за $O(1)$. Во второй возведение в степень потребует логарифм от $2N-1$ (линейное возведение в степень)

2. 5 ширь весам 1 3 9 27 81

$\frac{1}{1}$	$\frac{2}{3-1}$	$\frac{3}{3}$	$\frac{4}{3+1}$	$\frac{5}{9-3-1}$	$\frac{6}{9-3}$	$\frac{7}{9-3+1}$	$\frac{8}{9-1}$	$\frac{9}{9}$	$\frac{10}{9+1}$	$\frac{11}{9+3-1}$
---------------	-----------------	---------------	-----------------	-------------------	-----------------	-------------------	-----------------	---------------	------------------	--------------------

$\frac{12}{9+3}$	$\frac{13}{9+3+1}$
------------------	--------------------

из первых трех шир мы можем собрать все веса от 1 до 13, то используя еще и ширь весам 27 мы можем набрать также веса от $27-13(14)$ до $27+13(40)$. Теперь мы можем набрать все веса от 1 до. Используя еще ширь весам 81 мы можем набрать веса от $81-40(41)$ до $81+40(121)$.



Олимпиада школьников «Надежда энергетики»


Вариант: 43101

ШИФР, НЕ ЗАПОЛНЯТЬ! ⇒

NC 75-12



ВНИМАНИЕ! Проверяется только то, что записано с этой стороны листа в рамке справа



Олимпиада школьников «Надежда энергетики»

г. Путь-Хрустальный
МБОУ «СОШ №2»

Место проведения

ВХ 76-61

шифр

← Не заполнять
Заполняется
ответственным
работником

Вариант № 73111

ФАМИЛИЯ

Сухов В

ИМЯ

Владимир

ОТЧЕСТВО

Игоревич

Дата
рождения

21.05.2002

Класс:

11

Предмет

ИНФОРМАТИКА

Этап:

ЗАКЛЮЧИТЕЛЬНЫЙ

Работа выполнена на 8 листах

Дата выполнения работы: 16.02.2020
(число, месяц, год)

Подпись участника олимпиады:



Впишите свою фамилию имя и отчество печатными буквами, дату рождения, класс, название предмета, этапа Олимпиады, общее количество листов, на которых выполнена работа и дату выполнения работы.



Задание №4

Для решения данной задачи сначала рассмотрим, каким образом оптимальнее всего набирать гири.

1) Пусть у нас есть набор гирей: 1, 2, 3

Тогда мы можем измерить гири: 1, 2, 3, 4, 5, 6.

Следующее число которое нам хотелось бы получить — это 7.

2) Если мы его добавим, то сможем измерить гири:

1, 2, 3, 4, 5, 6, 7, 8, 9, 10, 11, 12, 13. Но давайте добавим не 7, а гири 13. Так как мы можем ставить гири на обе чаши весов, то мы сможем взвесить 7 гири образом

$$\underbrace{1, 2, 3, x}_{1 \text{ чаша}} \quad \underbrace{13}_{2 \text{ чаша}}, \text{ где } x - \text{взвешенное число } 7.$$

$$x = 13 - (1 + 2 + 3) \quad 7 = 13 - 6 \quad | : 3 = 2 \cdot 6 + 1.$$

3) Итак, добавив к набору 1, 2, 3 гири 13 мы сможем

взвешивать гири: 1, 2, 3, ..., 13, 14, 15, 16, 17, 18, 19.

Согласитесь, если у нас в наборе есть 1, 2, 3, 13 и мы можем взвешивать

1...6, то мы можем взвесить и 13-6; 13-5; 13-4; 13-3; 13-2; 13-1.

4) Получаем формулу:

Для набора $a_1, a_2, a_3, \dots, a_n$. $a_{n+1} = (a_1 + a_2 + \dots + a_n) \cdot 2 + 1$ ($n \in \mathbb{N}$)

5) Тогда для $Q = 40$ нужно 4 гири:

1, 3, 9, 27.

А для $Q = 120$ нужно 5 гирь:

1, 3, 9, 27, 81.

Ответ: 5 гирь: 1, 3, 9, 27, 81



ВНИМАНИЕ! Проверяется только то, что записано с этой стороны листа в рамке справа

Задача №2

Имеется массив A длины N . Проходимся по нему циклом обновляя самое большое встретившееся число. Как только встретили кое число, то выводим его, остановив цикл.

— это первое решение задачи если подразумевается, что мы ищем подпоследовательность с первого элемента.

То есть, для массива $A = [1, 3, 4, 1, 2, 3, 4, 5]$, $k = 3$ ответ будет 4 (подпоследовательность $1, 3, 4$)

В таком случае достаточно будет порядка N операций.

алг задача 2.1
начало алгоритма

цели:

$A[const] ←$

цели: N, k, i, t, f

$t = 0$

$f = 0$

Ввод N, k

Если ~~$N < 0$~~ ($N < 0$) или ($N < k$), то:

~~вывод~~ "некорректное N "

else:

Если ($N > 0$) и ($N >= k$), то:

для i от 1 до N :

~~мы~~
ввод $A[i]$

~~мы~~

$t = A[i]$

$f = 1$

на N ограничений нет,
поэтому const — какое-то
постоянное число.
 $const = N$

такая задача не имеет
бы смысла



ВНИМАНИЕ! Проверяется только то, что записано с этой стороны листа в рамке справа

для i от 2 до n :

если $A[i] > f$, то:

$$f = f + 1$$

$$f = A[i]$$

иначе если $f = k$, то:

break

остаток цикла, когда
нашли k -ое число

все

все

если $k = 1$ то:

вывод $A[1]$

иначе если $f = k$

вывод $A[f]$

иначе

вывод "В последовательности не найдено k -ого элемента"

все

все

конец алгоритма

2-ое решение. Если подразумевается, что подпоследовательность начинается не обязательно с 1-го элемента массива. Тогда циклом по i будем перебирать откуда начинается подпоследовательность, а циклом по j переберем числа этой подпоследовательности. Получим порядка N^2 операций. Каждый раз запоминаем последнее встретившееся число в последоват.



ВНИМАНИЕ! Проверяется только то, что записано с этой стороны листа в рамке справа

алг задача 2.2

Начало алгоритма

цел: $A[const]$

$const = N$

цел: N, k, i, j, t, f, ans

$ans = 0$

$t = 0$

$f = 0$

Ввод N, k

Если $(N \leq 0)$ или $(N < k)$ то:

вывод "некорректное N"

иначе задача не имела бы смысла

все

Если $N > 0$ и $N \geq k$ то:

для i от 1 до N :

вывод $A[i]$

~~$t = A[i]$~~ $ans = A[i]$

$f = 1$

для i от 2 до N

для j от i до N

Если $A[j] > t + 1$ то:

$f = f + 1$

$t = A[j]$

Если $f = k$ то:

break

остановка цикла по j.

все

все

Если $f = k$ то:

$ans = A[f]$

все

Если $k = 1$ то:

вывод $A[1]$



ВНИМАНИЕ! Проверяется только то, что записано с этой стороны листа в рамке справа

иначе
если ans = A[i] то:
вывод "не найдено k-ое число"

все
иначе
вывод ans



все
все
конец алгоритма.

Задача №5

для задачи 5
начало алгоритма

вектор A[N, N]
цели x, y, x0, y0, i, j, N, x1, y1

в задаче нет ограничений на N
т.к мы не знаем какое
числа в таблице, то
укажем вещественный
тип.

x0 = 1

Ввод N

Если N <= 0 то:

вывод "некорректное N"

иначе задача не имеет
интереса

иначе

y0 = N

x1 = 0

y1 = 0

Пока x0 < N или y0 < N делать:

нужно
Если A[x0, y0] > 0 то:



x1 = x0

y1 = y0

все

Если y0 - 1 > 0 то: ?

y0 = y0 - 1



ВНИМАНИЕ! Проверяется только то, что записано с этой стороны листа в рамке справа

ИНАЧЕ

$$x_0 = x_0 + r$$

все

$$x = x_0$$

$$y = y_0$$

пока

 ~~x~~ $+ r < N$ и $y + r < N$ делать:

$$x = x + r$$

$$y = y + r$$

ЕСЛИ $A[x, y] > 0$ ТО:

$$x_1 = x$$

$$y_1 = y$$

все

конц

конц

ЕСЛИ $x_1 = 0$ и $y_1 = 0$ ТО:

вывод "паломнических путей не встретилось"

иначе

вывод x_1, y_1

все

конец алгоритма

Решаем задачу следующим образом: находясь в ячейке с координатами x_0, y_0 создаем $x = x_0, y = y_0$ и перебираем $x = x + r$ по таблице пока не дойдем до края. После этого делаем $y = y_0 - r$ (если $y_0 > r$) или $x = x_0 + r$ (если $x_0 > r$). Повторяем эти действия пока не добьемся до $A[M, N]$. Причем случаи $A[M, 1]$ и $A[1, N]$ отдельно считать не нужно, т.к. в программе они уберутся. Не забываем для каждого ячейки проверять $A[i, j] > 0$. Выводим координаты последнего паломн. шля.

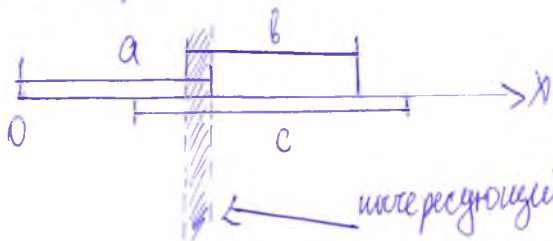


ВНИМАНИЕ! Проверяется только то, что записано с этой стороны; листа в рамке справа

Задача №3

Если перераспределить задачу, то имеем: n бревен длины k , координаты их начала и длину устья d . Нужно найти участок, где пересекается (а точки летят друг на друга) наибольшее число бревен.

Рассмотрим координатную прямую Ox и отрезки a, b, c на ней



Заменяем прямую Ox на массив A длины $(d+k)$. Длиной $d+k$ - чтобы потом не было ошибок выхода за границу массива. Теперь если бревно начинается в точке x , то в $A[x]$ ~~написано~~ $\neq A[x+k]$, а в $A[x+k] = A[x+k] - 1$. Проходя по массиву устанавливаем значение максимума элейки, как $A[i] = A[i-1] + A[i]$, где $i > 1$. Таким образом, там где пересекается больше всего бревен будет самое большое число (толщина).

Алг задача 3

Начало алгоритма

```
цел A[d+k]
цел d, k, n, i, max
ввод n, k, d
для i от 1 до n:
  ввод n, k, d A[i] = 0
```

Заполним A нулями

Если $n \leq 0$ или $k \leq 0$ или $d \leq 0$ то: вывод "некорректный ввод"

иначе задача не имеет бс смысла

```
иначе
  для i от 1 до n
    ввод ввод x
```

вводим координату начала i-ого бревна.



ВНИМАНИЕ! Проверяется только то, что записано с этой стороны листа в рамке справа

$$A[i] = A[i] + 1$$

$$A[i+k] = A[i+k] - 1$$

кон
max = +1
для i от 1 до n

$$A[i] = A[i] + A[i-1]$$

если $A[i] > \text{max}$ то:

$$\text{max} = A[i]$$

все

кон
вывод max
все

значимо A - ил запалил нулями.

т.к. обязательно будет
тащина = 1 (точно)

конец алгоритма

Задание №1

Заметим, что те черты, которые проведены по бокам прямоугольного шаблона есть у каждого знака и нет смысла ставить на них датчики. (черта посередине шаблона тоже везде отсутствует) Нет такого, чтобы еще где либо всегда (во всех четырех знаках) была черта или не было, а значит на каждую из них требуются датчики. Всего черт осталось 4 ⇒ датчиков тоже 4.

⊖ Ответ: 4 датчика

Олимпиада школьников «Надежда энергетики»

СОШ № 20

Место проведения

КМ 34-36

шифр

← Не заполнять
Заполняется
ответственным
работником

Вариант № 7311

ФАМИЛИЯ

Трофимов

ИМЯ

Евгений

ОТЧЕСТВО

Эдуардович

Дата

рождения

03.02.2002

Класс:

11

Предмет

Информатика

Этап:

Заключительный

Работа выполнена на

7

листах

Дата выполнения работы:

16.02.20

(число, месяц, год)

Подпись участника олимпиады:

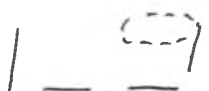
Евгений

Впишите свою фамилию имя и отчество печатными буквами, дату рождения, класс, название предмета, этапа Олимпиады, общее количество листов, на которых выполнена работа и дату выполнения работы.


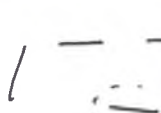


ВНИМАНИЕ! Проверяется только то, что записано с этой стороны листа в рамке справа

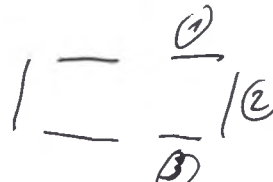
1) Решим. 1) Заметим, что мы можем однозначно определить ~~два~~ ^{непрочеркнутой} символа по ~~отличительной~~ правой стороне прямоугольника (цифры)

2) Символ  однозначно определяется по непрочеркнутой правой черте верхней стороны.

т.о мы однозначно определили 2 символа

3) ~~Для~~ ~~определить~~ ~~разные~~ Различить символы  и  мы можем по правой нижней черте.

т.о помним, что мы можем различить все символы по комбинации 3 черт. Т.е. необходимо 3 датчика.

4) Пример: Матрица: 

①, ②, ③ - датчики;

+,- черта прочерчена или нет



ВНИМАНИЕ! Проверяется только то, что записано с этой стороны листа в рамке справа

$$1 \quad \bar{1} \quad \bar{1} \quad (1) + (2) + (3) -$$

$$1 \quad \bar{1} \quad \bar{1} \quad (1) + (2) + (3) +$$

$$1 \quad \bar{1} \quad \bar{1} \quad (1) + (2) - (3) +$$

$$1 \quad \bar{1} \quad \bar{1} \quad (1) - (2) + (3) +$$

Видно, что нельзя выбрать 2 гатчика из 3 так, чтобы получилось 4 различные комбинации. Следовательно, 3 минимальное кол-во гатчиков.

Ответ: 3. \oplus

2) var

n - целое;

k - целое;

~~i - целое;~~

kol - целое;

m - целое;

x - целое;

начало

~~Если $k \geq n$~~

ввог (n);

ввог (k);



ВНИМАНИЕ! Проверяется только то, что записано с этой стороны листа в рамке справа

вывод (m); \ первое число последовательности

~~i := 1;~~

Kol := 1;

Пока Kol < K :

~~i := i + 1;~~

вывод (x);

если x > m

начало

m := x;

Kol := Kol + 1;

конец;

Ky;

вывод (m);

конец;

по о. получены, что ~~надо~~ у нас нет необходимости слышать все числа ячеек и программа работает за минимальное время, что гораздо быстрее.

3) ~~как~~

n, l, be, x, i, K, max-width - целое;

width [1... l] - массив;

начало

вывод (n); \ кол-во пробелов



ВНИМАНИЕ! Проверяется только то, что записано с этой стороны листа в рамке справа

```

вывод(l); \ длина узла
вывод(b2); \ длина бревна

```

```

Для i от 1 до l

```

```

  ищ

```

```

    width[i] := 0;

```

```

  кщ;

```

```

Для i от 1 до n

```

```

  ищ

```

```

  вывод(x); \ координата начала i-го бревна

```

```

Для k от x до (x+b2)

```

```

  ищ

```

```

    width[k] := width[k] + 1;

```

```

  кщ;

```

```

кщ;

```

```

max_width = width[1] width[l];

```

```

Для i от 1 до l

```

```

  ищ.

```

```

  Если width[i] > max_width тогда

```

```

    max_width := width[i];

```

```

кщ;
вывод(max_width);
конец.

```



ВНИМАНИЕ! Проверяется только то, что записано с этой стороны листа в рамке справа

4) Решиме. Пусть a_1, \dots, a_i - веса i -й ширь.
 $a_1 = 1$ - вес 1-й ширь.

2) ~~Заметим, что~~ Докажем, что

максимальное значение i -й ширь не превосходит значения: $2(a_1 + \dots + a_{i-1}) + 1$.

Пусть это не так. Тогда $a_{i \max} > 2(a_1 + \dots + a_{i-1}) + 2$.

Тогда сумма первых $a_i(i-1)$ ширь:

$a_1 + \dots + a_{i-1}$. Но при этом ~~минимализируется~~ разность

и/у a_i i ширь и $(i-1)$ ширь

составляет: $2(a_1 + \dots + a_{i-1}) + 2 - (a_1 + a_2 + \dots + a_{i-1}) =$

$= a_1 + \dots + a_{i-1} + 2$. В таком случае

мы не смогли определить все ширь массой $a_1 + \dots + a_{i-1} + 1$.

Следовательно, $a_{i \max} = 2(a_1 + \dots + a_{i-1}) + 1$.

3) Рассмотрим максимальные значения ширь весов ширь: $a_1 = 1$;

~~$a_2 = 3$~~ ; ~~$(1+1) \cdot 2 + 1$~~ ; $a_2 = 2 \cdot 1 + 1 = 3$;

$a_3 = (1+3) \cdot 2 + 1 = 9$; $a_4 = (1+3+9) \cdot 2 + 1 = 27$.

Заметим, что $1 + 3 + 9 + 27 = 40$ - выполняется для $Q = 40$.

$a_5 = (1+3+9+27) \cdot 2 + 1 = 81$.



ВНИМАНИЕ! Проверяется только то, что записано с этой стороны листа в рамке справа

4) (прообразиме).

тогда массы первых 5 шаров:

1; 3; 9; 27; 81.

Их сумма: $1+3+9+27+81=40+81=121$.

1217720.

Следовательно для $A=120$ необходимо пять шаров весами: 1; 3; 9; 27; 81 (кг).

Ответ: 5 шаров; Весы: 1; 3; 9; 27; 81.

5) var

i, n, x, y, i ; last-x; last-y - глоб;

~~a[1..n]~~ [a[1...n, 1...n] - массив;

Начало

void(a);

Для i от 1 до n

Для j от 1 до n

void(a[i, j]);

kg;

ky;

Для x от n до 1

kg

Для y от 1 до $(n+1-x)$

kg



ВНИМАНИЕ! Проверяется только то, что записано с этой стороны листа в рамке справа

5) (Продолжение)

Для i от x до n

и y

если $a[i, y] > 0$, тогда

начало

$last_x := i;$

$last_y := y;$

конец;

к $y;$

к $y;$

к $y;$

Для y от 2 до n

и x от 1 до $(n+1-y)$

и y

Для

i от y до n

и y

если $a[x, i] > 0$ тогда начало

$last_x := x;$

$last_y := y;$

конец;

к $y;$

к $y;$

к $y;$

вывод($last_x, last_y$);

конец.

7
+

Олимпиада школьников «Надежда энергетики»

МЭИ, Москва

Место проведения

BS 88-11

шифр

← Не заполнять
Заполняется
ответственным
работником

Вариант № 73101

ФАМИЛИЯ

УГРЮМОВ

ИМЯ

Михаил

ОТЧЕСТВО

Андреевич

Дата
рождения

13 июня 2004

Класс:

10

Предмет

ИНФОРМАТИКА

Этап:

ЗАКЛЮЧИТЕЛЬНЫЙ

Работа выполнена на 6 листах

Дата выполнения работы: 16.02.2020
(число, месяц, год)

Подпись участника олимпиады:


УМ

Впишите свою фамилию имя и отчество печатными буквами, дату рождения, класс, название предмета, этапа Олимпиады, общее количество листов, на которых выполнена работа и дату выполнения работы.



ВНИМАНИЕ! Проверяется только то, что записано с этой стороны листа в рамке справа

Задача 2.

 Пусть, для определённости, груз всегда кладётся на левую чашу весов. Тогда, чтобы получить массу груза, нужно из суммы масс гирь на правой чаше вычесть сумму масс гирь на левой чаше. Таким образом, в данной сумме каждая из гирь умножена на $-1, 1$ или 0 (на левой чаше, на правой или не задействована). Теперь нетрудно догадаться, что веса гирь являются степенями тройки: $1, 3, 9, 27$. У каждой гири 3 состояния, значит возможных конфигураций всего $3^4 = 81$.

Это числа от -40 до 40 включительно (как раз 81 число). И каждому такому числу соответствует уникальная комбинация чисел $-1, 1$ и 0 :

$$-40 = (-1) \cdot 27 + (-1) \cdot 9 + (-1) \cdot 3 + (-1) \cdot 1$$

$$-39 = (-1) \cdot 27 + (-1) \cdot 9 + (-1) \cdot 3 + (0) \cdot 1$$

$$-38 = (-1) \cdot 27 + (-1) \cdot 9 + (-1) \cdot 3 + (1) \cdot 1$$

...

$$0 = 0 \cdot 27 + 0 \cdot 9 + 0 \cdot 3 + 0 \cdot 1$$

$$1 = 0 \cdot 27 + 0 \cdot 9 + 0 \cdot 3 + 1 \cdot 1$$

и так далее.

Трёхчлен ~~появляется~~ не ~~появляется~~ Но грузы массы от -40 до 40 не существует. Поэтому как раз на грузы от 1 до 40 и хватает.

Если, что при множителях $-1, 1$ и 0 четырёх гирь не хватает, значит нужно ≥ 5 : $1, 3, 9, 27, 81 \dots$ Но аналогично, или можно закодировать (взвесить) ~~грузы от -3^5 до 3^5~~ , то есть $\geq 3^5$ разных чисел (масс грузов): от -121 до 121 . Но есть любой груз от 1 до 121 кг можно взвесить, если ~~хорошо~~ есть хотя бы 5 гирь (по именности $1, 3, 9, 27, 81$).

Ответ: 5 гирь: $1, 3, 9, 27, 81$ кг.



ВНИМАНИЕ! Проверяется только то, что записано с этой стороны листа в рамке справа

Задача 3.

Поскольку никакой закономерности в записанных числах нет, то нужно перебрать их все в порядке, как на схеме, и сравнивать с d и s . После нахождения первого такого числа нужно завершить перебор, для этого понадобится логическая переменная, показывающая, нужно ли продолжать цикл.

Таблицу можно хранить в двумерном массиве, элементами которого будут строки таблицы.

Алгоритм:

1) Объявить N, d, s - целые числа; $tab[N][N]$ - двумерный массив.

2) Считать N, d, s .

3) Для (i от 1 до N с шагом 1):

1) Для (j от 1 до N с шагом 1):

1) Объявить k - целое число.

2) Считать k .

3) $tab[i][j] = k$.

<КОНЕЦ> "ДЛЯ" j

<КОНЕЦ> "ДЛЯ" i >

4) Объявить $i=0, j$ - целые числа; $flag = true$ - логическая переменная.

5) Пока ($i \leq N$ и $flag = true$):

1) $i = i + 1$. перейти на следующую строку

2) Если ($i \bmod 2 = 1$): если строка нечетная

1) $j = 0$ записать $j = 0$

2) Пока ($j < N$ и $flag = true$):

1) $j = j + 1$.

2) Если ($tab[i][j] \geq d$ и $tab[i][j] \leq s$):

1) Вывести "строка = ", i .

2) Вывести "столбец = ", j .

<КОНЕЦ "ЕСЛИ"> 3) $flag = false$.

<КОНЕЦ "ПОКА">

Иначе:

1) $j = N + 1$. статье записать $j = N + 1$

2) Пока ($j > 1$ и $flag = true$): и идем

$N > 0$

заполнение массива



и идем по строке вверх, ищем нужный элемент



ВНИМАНИЕ! Проверяется только то, что записано с этой стороны листа в рамке справа

$$1) j = j - 1$$

2) Если $(tab[i][j] \geq d$ и $tab[i][j] \leq S)$:

1) Вывести "строка = ", i .

2) ~~строка~~ Вывести "столбец = ", j .

3) $flag = false$.

по строке
влево,
ищем
нужный
элемент

< КОНЕЦ "ЕСЛИ" >

< КОНЕЦ "ПОКА" >

< КОНЕЦ "ЕСЛИ, ИНАЧЕ" >

< КОНЕЦ "ПОКА" >

Конец.

~~Таким образом, при нахождении~~

6) Если $(flag = true)$:

1) Вывести "нет такого элемента".

< КОНЕЦ "ЕСЛИ" >

Конец.

Таким образом, при нахождении нужного элемента, алгоритм выводит^m нужные данные, изменяет значение логической переменной на false и завершает цикл. Если же после завершения цикла логическая переменная не изменилась, значит такого элемента нет.

Задача 5.

Множество Z_m — числа ~~от~~ $0, 1, 2, \dots, m-2, m-1$.

Знаком код надежный, если корни уравнения целые и лежат на промежутке $[0; m-1]$.

Алгоритм:

1) Даны a, b, c, m, D — целые числа; x_1^*, x_2^* — действительные.

2) Считать a, b, c, m .

3) $D = b^2 - 4 * a * c$.

4) Если $(D < 0)$:

1) Вывод "не надежный".

Иначе:



ВНИМАНИЕ! Проверяется только то, что записано с этой стороны листа в рамке справа

1) $x_1 = (-b - \sqrt{b^2 - 4ac}) / (2a)$.

2) $x_2 = (-b + \sqrt{b^2 - 4ac}) / (2a)$.

~~3) Если $(x_1 \geq 0$ и $\text{int}(x_1) = x_1$) или $(x_2 \geq 0$ и $\text{int}(x_2) = x_2$):~~

3) Если $(x_1 \geq 0$ и $x_1 \leq m-1$ и $\text{int}(x_1) = x_1$) или $(x_2 \geq 0$ и $x_2 \leq m-1$ и $\text{int}(x_2) = x_2$):

Если хотя бы одно из чисел $f \in [0; m-1]$ и его целая часть равна ему самому (⇨ оно целое).

1) Вывод «надежный».



Иначе:

1) Вывод «ненадежный».

< КОНЕЦ «ЕСЛИ, ИНАЧЕ» >


< КОНЕЦ «ЕСЛИ, ИНАЧЕ» >

Конец.

Итак, код надежный, если у уравнения есть корни и хотя бы один из них целый и $f \in [0; m-1]$.

Задача 1.

Для удобства пронумеруем места, где могут быть черточки (см. рис.).



Заметим, что во всех четырех знаках присутствуют черточки ①, ②, ⑥, поэтому они никакой дополнительной информации не несут. Нужно просто запомнить, что они там всегда есть.

А вот черточки ③, ④, ⑤ есть не везде, значит для них нужны датчики. Чтобы распознать знак, нужно не менее 3 датчиков.



Ответ: 3.



ВНИМАНИЕ! Проверяется только то, что записано с этой стороны листа в рамке справа

Задача 4.

1) У каждого слагаемого в знаменателе его номер, а в степени числа x — нечётное число с таким номером. Знаменатель: $S_N = (-1)^{N+1} \cdot \frac{x^{2N-1}}{N}$

2) Посчитаем количество операций, необходимое для нахождения S_N по формуле из п.1. Это зависит от того, как возводить в степень. Можно просто умножить x на себя $2N-1$ раз, а можно использовать алгоритм быстрого возведения в степень, который работает за $\log_2(2N-1)$ при возведении в степень $2N-1$. Он представляет собой следующую рекурсивную функцию от двух аргументов a и n и возвращает a^n :

Имя функции `power(int a, int n)`

Если $(n=1)$

вернуть a

Иначе если $(n=2)$

вернуть $a * a$

Иначе если $(n \bmod 2 = 1)$

вернуть $a * \text{power}(a, n-1)$

Иначе

вернуть $\text{power}(a * a, n/2)$.

Итак, S_N мы находим за $O(\log_2(2N-1))$, так как $(-1)^{N+1}$ занимает некакую операцию: если N -чётное, оно равно -1 , иначе 1 . Далее на N -м месте $O(1)$.

Если пользоваться другой формулой, то на каждый шаг мы тратим около 7 операций. Значит нахождение N -го — около $7N$ операций. Это больше, чем формулой 1. ~~Но~~ ^{Если} использовать обычное возведение в степень, то ~~1~~ ^{затратим} около $2N$ операций, всё равно быстрее.



ВНИМАНИЕ! Проверяется только то, что записано с этой стороны листа в рамке справа

Если же мы пользуемся формулой 1 для нахождения суммы первых N членов, то это займёт $N \cdot \log_2(2N-1)$ операций. А по формуле 2 на подсчёт и ещё N на сложение. Это $N + N \cdot \log_2(2N-1)$. А при использовании обычного алгоритма возведения в степень — $N + 2N^2$.

Если мы пользуемся формулой 2 для нахождения суммы первых N членов, мы находим эти члены за $7N$ операций и складываем. Итого — около $8N$.

Для наглядности сделаем таблицу.

	Найти S_N	Найти сумму первых N
формула 1 с медленным алгоритмом	$2N$	$2N^2 + N$
формула 3 с быстрым алгоритмом	$\log_2(2N)$	$N \log_2(2N) + N$
формула 2	$7N$	$8N$

Как видно, для нахождения одного члена лучше пользоваться формулой 1 в любом случае.

А для нахождения суммы первых N гораздо лучше формула 2.

Ответ: S_N — формула 1, сумма первых N — формула 2 быстрее.



Олимпиада школьников «Надежда энергетики»

МГУ город Москва

Место проведения

НЯ 67-32

шифр

← Не заполнять
Заполняется
ответственным
работником

Вариант № 73111

ФАМИЛИЯ Цыганков

ИМЯ Николай

ОТЧЕСТВО Викторович

Дата рождения 22.05.2002

Класс: 11

Предмет ИНФОРМАТИКА

Этап: ЗАКЛЮЧИТЕЛЬНЫЙ

Работа выполнена на 4 листах

Дата выполнения работы: 16.02.2020
(число, месяц, год)

Подпись участника олимпиады: Цыганков

Впишите свою фамилию имя и отчество печатными буквами, дату рождения, класс, название предмета, этапа Олимпиады, общее количество листов, на которых выполнена работа и дату выполнения работы.



ВНИМАНИЕ! Проверяется только то, что записано с этой стороны листа в рамке справа

N1

Для работы системы поиска достаточно 3 датчиков хранить информацию с датчиков будем в массиве на 3 элемента, "1" - есть черточка, "0" - нет черточки.


```

main { array int a[3]; bool flag = true;
    for (int i = 0; i < 3; i++) {
        вводим с датчика a[i];
        if (i == 0) { if (a[0] == 0) { write("знак 4"); flag = false; }
        if (i == 2) { if (a[2] == 0) { write("знак 1"); flag = false; }
    }
    if (flag) {
        if (a[1] == 0) { write("знак 2"); }
        else { write("знак 3"); }
    }
}

```

Датчики расположены по такой схеме:

ЗНАКИ			
ЗНАК 1	ЗНАК 2	ЗНАК 3	ЗНАК 4
—	—	—	—
○	○	○	○



- Обоснование:
- Если на датчике 0 - нет черты (то это однозначно знак 4)
 - Если на датчике 2 - нет черты (то это однозначно знак 1)
 - В случае ~~отсутствия~~ присутствия черточек на датчиках 0 и 2 ответ определяет датчик 1. Если на нем есть черта то это однозначно знак 3, если нет то знак 2

Ответ: 3 датчика





ВНИМАНИЕ! Проверяется только то, что записано с этой стороны листа в рамке справа

N2

```

main {int n, k;
    read(n); int a[n]; int ite = 0; int min; int ind;
    read(k); if (k > n) { write("k не может быть больше n"); }
    for (int i = 0; i < n; i++) {
        read(a[i]); // 13005 МАССУБА
    }
    min = a[0];
    for (int i = 0; i < n; i++)
    while (true) {
        min = a[ite]; ind = ite;
        for (int i = ite + 1; i < n; i++)
        for (int i = ite + 1; i < n; i++) {
            if (a[i] < min) { ind = i; min = a[i]; }
        }
        if (a[ind] < a[ite]) { write(a[ind]); }
        if (min < a[ite]) { a[ind] = a[ite]; }
        ite++;
        if (ite == kind) { write(a[ite-1]); break; } // конец
    }
}

```





ВНИМАНИЕ! Проверяется только то, что записано с этой стороны листа в рамке справа

N3

```

main { int n; read(n); int len;
      for (int i=0; i<n; i++) {
        read(a[i]); // Ввод числа (положительное число)
        y[i] = 0;
      }
      for (int i=0; i<n; i++) y[a[i]]++;
      int otvet = y[0];
      for (int i=0; i<n; i++) { if (y[i] > otvet) { otvet = y[i]; } }
      write(otvet);
    }
  
```

N4

ТАК КАК В ДА $Q = 40$ НАМ НЕОБХОДИМО
ТРЕБУЕТСЯ ЧИСЛА

ТО В ДА $Q = 20$ БУДЕТ ДОСТАТОЧНО ОУСКИ СЕРУ БУСРЬ:

40 и 40 и набор в ДА $Q = 20$ ТАК КАК В ДА
СЕРУСРЬ ПО 40 МОЖНО СВЯЗЬ К $Q = 40$
ПОЛУЧИТЬ СВЯЗЬ К $Q = 40$
1 СВЯЗЬ К 20 МОЖНО СВЯЗЬ К $Q = 40$ и $Q = 20$
1 СВЯЗЬ К 10 СВЯЗЬ К $Q = 20$ и $Q = 10$
1 СВЯЗЬ К 5 СВЯЗЬ К $Q = 10$ и $Q = 5$

$Q = 5$ и 3

+

Отв: 6 сурь : 20, 20; 5, 3; 40, 40



ВНИМАНИЕ! Проверяется только то, что записано с этой стороны листа в рамке справа

```

main {
    int n; read(n); int [n] a; int j; int start X, start Y;
    for (int j = 0; j < n; j++) {
        for (int i = 0; i < n; i++) {
            read(a[j][i]); // ВХОДНЫЕ ДАННЫЕ
        }
    }
    otvet X = 0; otvet y = n - 1; // КОЛ-ВО ВИАГОМАЛЕВ
    for (int i = 1; i < n - 2 - 1; i++) { // "ВЛИВ" ВИАГОМАЛЕВ
        j = 2n - 1; if (i <= n) { j = i; }
        start X = n - i; if (i >= n) { start X = 0; }
        start y = 0; if (i > n) { start y = i - n; }
        for (int j = 0; j > 0; j--) { // ПРОХОДИМ МАССИВ ПО ПЯТИ
            if (a[start Y][start X] >= 0) {
                if (a[start Y, start X] >= 0) { otvet y = start Y; }
                otvet x = start X; }
            start y ++;
            start X ++;
        }
    }
    write ("СТРОКА" + otvet y + 1);
    write ("СТОНБЕГ" + otvet x + 1);
}

```

(+)

Олимпиада школьников «Надежда энергетики»

г. Калининград

Место проведения

ФS 60-11

шифр

← Не заполнять
Заполняется
ответственным
работником

Вариант № 73991

ФАМИЛИЯ ШИБАЕВ

ИМЯ АЛЕКСАНДР

ОТЧЕСТВО МИХАИЛОВИЧ

Дата рождения 29.10.2004

Класс: 9

Предмет ИНФОРМАТИКА

Этап: ЗАКЛЮЧИТЕЛЬНЫЙ

Работа выполнена на 4 листах

Дата выполнения работы: 16.02.2020
(число, месяц, год)

Подпись участника олимпиады:



Впишите свою фамилию имя и отчество печатными буквами, дату рождения, класс, название предмета, этапа Олимпиады, общее количество листов, на которых выполнена работа и дату выполнения работы.



ВНИМАНИЕ! Проверяется только то, что записано с этой стороны листа в рамке справа

Задача n1.

Очевидно, что 1 датчик не хватит, т.к. у нас всегда будет 2 или 3 возможных варианта расположения. Докажем, что при 2 датчиках можно точно определить



..... - это пустая сторона

v - значит стоит датчик

v1 - первый датчик

v2 - второй датчик

Если v1 и v2 - „говорят“ это значит прогорела, то это (3) символ, если оба говорят „нет“, то это (1), а если v1 - „нет“ а v2 - „да“, то это (2).

Задача n2.

1 3 9 27

$$1+3+9+27=40$$

$$1=1$$

$$2+1=3$$

$$3=3$$

$$4=3+1$$

$$5=1+3=9$$

$$6+3=9$$

$$7+3=9+1$$

$$8+1=9$$

$$9=9$$

$$10=9+1$$

$$11+1=9+3$$

$$12=9+3$$

$$13=9+3+1$$

$$14+1+3+9=27 \quad 14+1+3+9=27$$

$$15+3+9=27$$

$$16+9+3=27+1$$

$$17+1+9=27$$

$$18+9=27$$

$$19+9=27+1$$

$$20+9+1=27+3$$

$$21+9=27+3$$

$$22+9=27+3+1$$

$$23+3+1=27$$

$$24+3=27$$

$$25+3=27+1$$

$$26+1=27$$

$$27=27$$

$$28=27+1$$

$$29+1=27+3$$

$$30=27+3$$

$$31=27+3+1$$

$$32+1+3=27+9$$

$$33+3=27+9$$

$$34+3=27+9+1$$

$$35+1=27+9$$

$$36=27+9$$

$$37=27+9+1$$

$$38+1=27+9+3$$

$$39=27+9+3$$

$$40=27+9+3+1$$



ВНИМАНИЕ! Проверяется только то, что записано
с этой стороны листа в рамке справа

Задача №3

```
#include <bits/stdc++.h>
using namespace std;
long long f(int n) {
    long long a = 1;
    for (int i = 1; i ≤ n; i++) {
        a = a * 10;
    }
    return a;
}
```

Анализ функции

```
int check(int x, int y, int z) {
    long long a = 0;
    a += 20 * f(12);
    a += x * f(10);
    a += z * f(10);
    a += y * f(9);
    a += y * f(8);
    a += x * f(7);
    a += 2019 * f(3);
    a += x * f(2);
    a += y * f(1);
    a += 1;
    if (a % (10y + x) == 0) {
        return 1;
    }
    return 0;
}
```

```
int main() {
    long long k = 0;
    for (int x = 0; x ≤ 9; x++) {
        for (int y = 0; y ≤ 9; y++) {
            for (int z = 0; z ≤ 9; z++) {
                k += check(x, y, z x, y, z);
            }
        }
    }
    cout << k;
    return 0;
}
```



ВНИМАНИЕ! Проверяется только то, что записано с этой стороны листа в рамке справа

Задача n5.

Т.к. я не совсем понял условие задачи, то я приведу 2 решения:
 первое: же сам корень должен быть в множестве Z_m , а во
 втором: же все возведения производится по модулю m и корень
 должен находиться в Z_m .

первое:

```
#include <bits/stdc++.h>
using namespace std;
int main() {
    int a, b, c, m;
    cin >> a >> b >> c >> m; // вводи a, b, c, m.
    if (b*b - 4*a*c < 0) { // если D < 0, то вво вводи, это код неа-
        cout << "NO"; // гич.
        return 0;
    }
    int k = sqrt(b*b - 4*a*c);
    if (k*k == b*b - 4*a*c) {
        if (((-1)*b + k) % (2*a) == 0 || ((-1)*b - k) % (2*a) == 0) // δ - это амперсант
            cout << "Yes";
        return 0;
    }
    cout << "NO";
    return 0;
}
```

второе.



ВНИМАНИЕ! Проверяется только то, что записано с этой стороны листа в рамке справа

```
#include <bits/stdc++.h>
using namespace std;
int md(int a, int m){
    if(a < 0){
        return m - (a % m);
    }
    return a % m;
}
int main(){
    int a, b, c, m;
    cin >> a >> b >> c >> m;
    int d = md(b * b, m) + md((-4) * a * c, m);
    int d = md(d, m);
    int k = sqrt(d);
    if(k * k == d){
        if(md(k - b, m) % md(2 * a, m) == 0
            || md((-1) * k - b, m) % md(2 * a, m) == 0){
            cout << "Yes";
            cout << "YES";
            return 0;
        }
    }
    cout << "NO";
    return 0;
}
```



Задача 14.

Если в каком-то направлении все красные стали самыми последними, а все зеленые - самыми первыми, то надо будет сделать ходов:

все красные в начало: $2(N-x) \cdot x$, x - число красных.

Теперь можем считать, что ряд длины $N-x$.

переместим все зеленые в конец: не более $2 \cdot (N-x-y) \cdot y$ ходов (y - число зеленых).

~~Всего~~: Всего: $2(N-x) \cdot x + 2 \cdot (N-x-y) \cdot y < 4N$

$$x + y \leq N$$

$$2Nx - 2x^2 + 2Ny - 2xy - 2y^2 \leq 4(x+y)$$

$$2N(x+y) - (x+y)^2 - (x^2+y^2) \leq 4(x+y) \quad | : x+y$$

$$2N - (x+y) - (x+y) \leq 4$$

Олимпиада школьников «Надежда энергетики»

СФМЭИ

Место проведения

НС 75-69

шифр

← Не заполнять
Заполняется
ответственным
работником

Вариант № 73101

ФАМИЛИЯ Яцук

ИМЯ Александр

ОТЧЕСТВО Владимирович

Дата рождения 09.06.2004

Класс: 10

Предмет информатика

Этап: Заключительный

Работа выполнена на 3 листах

Дата выполнения работы: 16 февраля 2020
(число, месяц, год)

Подпись участника олимпиады: Яцук

Впишите свою фамилию имя и отчество печатными буквами, дату рождения, класс, название предмета, этапа Олимпиады, общее количество листов, на которых выполнена работа и дату выполнения работы.



ВНИМАНИЕ! Проверяется только то, что записано с этой стороны листа в рамке справа

№1

рассмотрим позиции которые даны

1-1 1-1 1-1 1-1

Эти комбинации имеют 3 общих положения 1-1 а остальные --1 изменяются. Методом из это можно купить 3 датчика для --1 положений а комбинации 1-1 считать всегда законными.

Ответ: 3 Также же заметим, если правый индуктор и правый нижний преобразуют как 1 или 0 то по ним можно однозначно ^{узнать} какое это положение.

Например: 1-1 = 01 1-1 = 11 1-1 = 10 1-1 = 00

Ответ: 2

(+)

№2

Для решения поставленной задачи воспользуемся 3-ей системой счисления. Пусть 0 ~~значит~~ в 3-ей системе значит что мы не берем эту цифру 1 что берем, и 2 что мы берем медианную по количеству и вычитает эту.

(+)

Пример: $W = 89_{10} = 10022_3$. для удобства под каждой цифрой напишем функцию системы 3-и $10022 = 81 + 9 - 3 + 3 - 1$ произведем все операции по цифрам $81 + 9 - 1 = 89$. Для $W \leq 90$ можно использовать лишь 5 цифр максимальной 81, 27, 9, 3, 1 т.к. их сумма > 90

Ответ: 5 цифр (81, 27, 9, 3, 1)



ВНИМАНИЕ! Проверяется только то, что записано с этой стороны листа в рамке справа

 $N=3$ $n > 0$

Введем исходную матрицу $N \times N$ в массив $a[N][N]$
 переберем номер ^{строки} ~~столбца~~ i ; от 1 до N

если чет то

переберем номер столбца j от N до 1

если $a[i][j] \geq d$ и $a[i][j] \leq s$ то

[выводим i, j]; завершаем программу



иначе переберем номер столбца j от 1 до N

если $a[i][j] \geq d$ и $a[i][j] \leq s$ то

[выводим i, j]; завершаем программу.

 $N=4$

Приведем интегральную формулу $S(x) = x - \frac{x^3}{2} + \frac{x^5}{3} - \frac{x^7}{4} + \dots + (-1)^{n+1} \frac{x^{2n-1}}{n}$

докажем: $n=1$ $S(x) = (-1)^2 \frac{x^{2-1}}{1} = x$

$n=2$ $S(x) = x + (-1)^3 \frac{x^{2-1}}{2} = x - \frac{x^3}{2}$

$n=3$ $S(x) = x - \frac{x^3}{2} + (-1)^4 \frac{x^3}{3} = x - \frac{x^3}{2} + \frac{x^5}{3}$

Количество операций для каждого элемента программы

будет $3n+3$ значит для подсчета всех ариф. операций

потребуется $\approx n + \frac{(3n+3)^2}{2} = n + 4,5n^2 + 4,5 + 9n = 4,5n^2 + 10n + 4,5$

значит для выполнения подсчета ариф. действий

выражения $\sum_{n=1}^{N+1} \approx 4,5n^2 + 10n + 4,5 + 4,5(n+1)^2 + 10(n+1) + 4,5 + 1 =$

$= 4,5n^2 + 10n + 4,5 + 4,5n^2 + 4,5 + 9n + 10n + 10 + 4,5 + 1 = 9n^2 + 29n + 24,5$ действий

а для выражения $-x^2 \frac{N}{N+1}$ потребуется 5 действий.





ВНИМАНИЕ! Проверяется только то, что записано с этой стороны листа в рамке справа

$n \geq 5$

Зная a, b, c и m , достаточно проверить на принадлежность корни x .

Запишем a, b, c, m

Знаем число D равно $b^2 - 4ac$

или $D < 0$ ответа не существует, т.е. вся заперта ненадежно

Знаем $x_1 = (-b + \sqrt{D}) / 2a$

Знаем $x_2 = (-b - \sqrt{D}) / 2a$

или $(x_1 \geq 0$ и $x_1 < m)$ или $(x_2 \geq 0$ и $x_2 < m)$ то вся заперта

надежно

иначе вся заперта ненадежно

